



ESCOLA DE EDUCAÇÃO BÁSICA MUNICIPAL MADRE LEONTINA

DATA: 14 E 15 DE SETEMBRO DE 2020.






PROFESSORA: ESTER LAÍS DOBBERT THOMÉ.






ALUNO (A): _____ 1º ANO.

AVALIAÇÃO DE LÍNGUA PORTUGUESA E CIÊNCIAS

1) ESCREVA O NOME DA IMAGEM DEPOIS SEPRE EM SÍLABAS COMO ESTÁ NO EXEMPLO.









(VALE 4 PONTOS – 0,4 PARA CADA ACERTO).

				
BOLA				
BO - LA				


2) PINTE AS SÍLABAS QUE FORMAM O NOME DOS DESENHOS ABAIXO.

(VALE 2 PONTOS – 0,25 PARA CADA ACERTO).

			
DIM BA LA PU	LI LÁ SO PIS	BO ãO PI MA	LI MA DA PO
			
PA PE NI NA	NO PI A LU	CO CA PI PO	GAI O PA PA

3) FORME FRASES COM:

(VALE 4 PONTOS)




BOCA



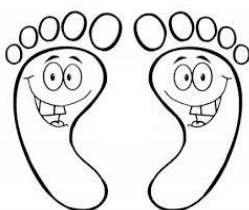
NARIZ



OLHOS



MÃO



PÉS



ORELHA



ESCOLA DE EDUCAÇÃO BÁSICA MUNICIPAL MADRE LEONTINA

DATA: 16 E 17 DE SETEMBRO DE 2020.

PROFESSORA: ESTER LAÍS DOBBERT THOMÉ.

ALUNO (A): _____ 1º ANO.

AVALIAÇÃO DE MATEMÁTICA

1) RESOLVA O QUE SE PEDE DEPOIS PINTE BEM CAPRICHADO OS DESENHOS.
(VALE 4 PONTOS – 0,3 O ACERTO).

VAMOS RESOLVER O QUE SE PEDE?



 QUANTAS FRUTAS TEM?

a) NA PRIMEIRA CESTA:

b) NA SEGUNDA CESTA:

c) NA TERCEIRA CESTA:

 NA PRIMEIRA CESTA TEM:




 NA SEGUNDA CESTA TEM:

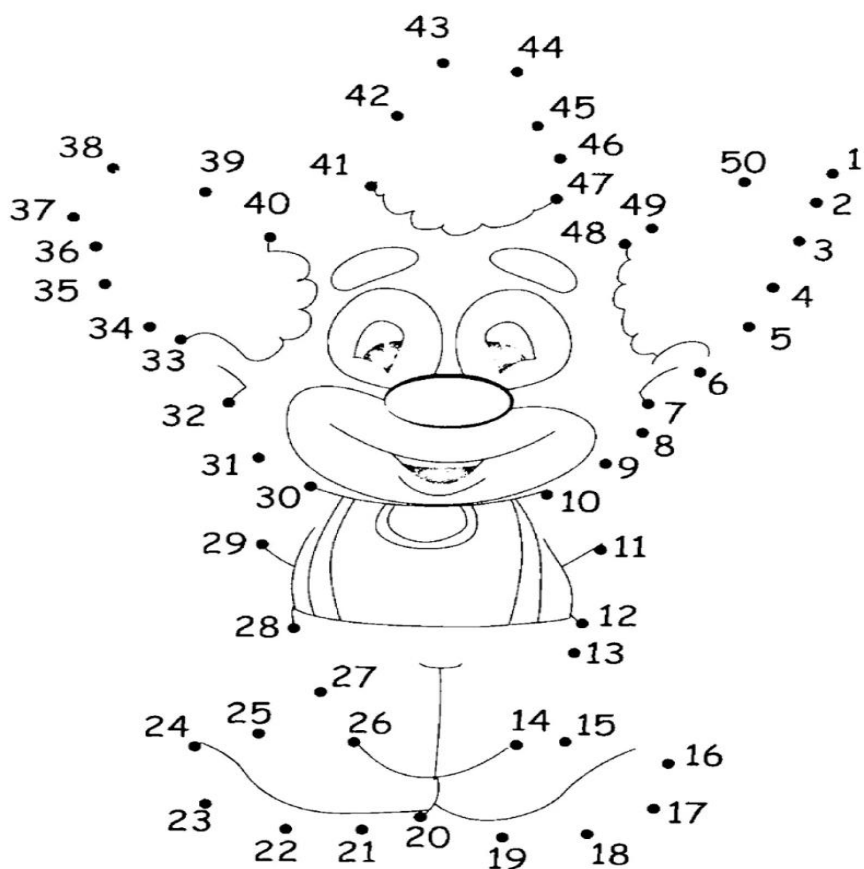


 NA TERCEIRA CESTA TEM:



 AO TODO, AS CESTAS TÊM: FRUTAS.

2) LIGUE OS PONTOS ABAIXO E DESCUBRA A SEQUÊNCIA, DEPOIS PINTE BEM CAPRICHADO. (VALE 2 PONTOS – 0,04 O ACERTO).



3) FAÇA OS CÁLCULOS MENTALMENTE, DEPOIS PINTE DE ACORDO COM OS RESULTADOS. (VALE 4 PONTOS – 0,18 O ACERTO)

- 6- DE AMARELO
- 7- DE VERMELHO
- 10- DE VERDE

- 4- DE AZUL
- 5- DE MARROM
- 9- DE ROSA

