



Escola de Educação Básica Municipal Madre Leontina
Professora: Dayane Vieira Martins dos Santos
Turma: 2º ano
Período de execução das atividades: 26/10/2020 a 29/10/2020.
Aluno(a): _____

ATENÇÃO!

Observação: A partir de agora com a entrega dos materiais didáticos, algumas das atividades deverão ser realizadas nos livros e outras atividades quando solicitadas copiadas no caderno. As fotos das atividades desenvolvidas deverão ser enviadas, até sexta-feira dia 29/10 para acompanhamento, após isso, somente estarei revendo as atividades na segunda-feira.

EM CASO DE DÚVIDAS: Meu número: **99828-3029**

Observação: Nesse último trimestre, enviarei atividades avaliativas toda a semana. Na semana seguinte, a correção dessas atividades avaliativas, para que possam acompanhar. Dessa forma será possível avaliar o progresso e desenvolvimento das atividades pelos alunos.

ATIVIDADES DA SEMANA

Segunda-feira: 26/10

Matemática

Habilidades (EF02MA04/EF02MA02)

Quem recebe impresso pode responder dentro dos balões. Os demais devem copiar e responder em seu caderno

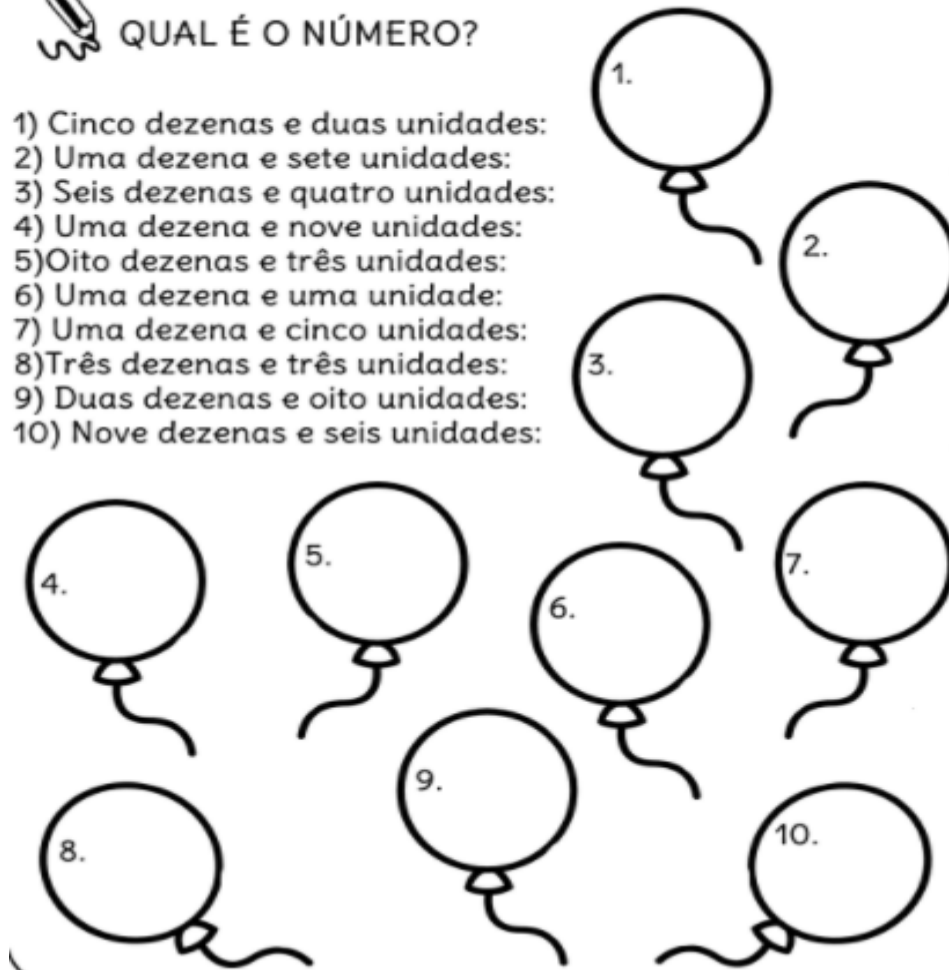
ATIVIDADE AVALIATIVA

DITADO NUMÉRICO



QUAL É O NÚMERO?

- 1) Cinco dezenas e duas unidades:
- 2) Uma dezena e sete unidades:
- 3) Seis dezenas e quatro unidades:
- 4) Uma dezena e nove unidades:
- 5) Oito dezenas e três unidades:
- 6) Uma dezena e uma unidade:
- 7) Uma dezena e cinco unidades:
- 8) Três dezenas e três unidades:
- 9) Duas dezenas e oito unidades:
- 10) Nove dezenas e seis unidades:



Vamos relembrar as operações, agora trabalhando com números de três algarismos, COPIE E RESOLVA EM SEU CADERNO

Resolva as adições:

<p>A</p> <table border="1" style="border-collapse: collapse; width: 60px; height: 60px; margin: auto;"> <tr><td style="width: 20px; height: 20px;"></td><td style="width: 20px; height: 20px;"></td></tr> <tr><td style="text-align: center;">427</td><td></td></tr> <tr><td style="text-align: center;">+ 361</td><td></td></tr> <tr><td colspan="2" style="border-top: 1px solid black;"></td></tr> <tr><td style="width: 20px; height: 20px;"></td><td style="width: 20px; height: 20px;"></td></tr> </table>			427		+ 361						<p>B</p> <table border="1" style="border-collapse: collapse; width: 60px; height: 60px; margin: auto;"> <tr><td style="width: 20px; height: 20px;"></td><td style="width: 20px; height: 20px;"></td></tr> <tr><td style="text-align: center;">880</td><td></td></tr> <tr><td style="text-align: center;">+ 97</td><td></td></tr> <tr><td colspan="2" style="border-top: 1px solid black;"></td></tr> <tr><td style="width: 20px; height: 20px;"></td><td style="width: 20px; height: 20px;"></td></tr> </table>			880		+ 97						<p>C</p> <table border="1" style="border-collapse: collapse; width: 60px; height: 60px; margin: auto;"> <tr><td style="width: 20px; height: 20px;"></td><td style="width: 20px; height: 20px;"></td></tr> <tr><td style="text-align: center;">639</td><td></td></tr> <tr><td style="text-align: center;">+ 99</td><td></td></tr> <tr><td colspan="2" style="border-top: 1px solid black;"></td></tr> <tr><td style="width: 20px; height: 20px;"></td><td style="width: 20px; height: 20px;"></td></tr> </table>			639		+ 99					
427																																
+ 361																																
880																																
+ 97																																
639																																
+ 99																																
<p>D</p> <table border="1" style="border-collapse: collapse; width: 60px; height: 60px; margin: auto;"> <tr><td style="width: 20px; height: 20px;"></td><td style="width: 20px; height: 20px;"></td></tr> <tr><td style="text-align: center;">752</td><td></td></tr> <tr><td style="text-align: center;">+ 186</td><td></td></tr> <tr><td colspan="2" style="border-top: 1px solid black;"></td></tr> <tr><td style="width: 20px; height: 20px;"></td><td style="width: 20px; height: 20px;"></td></tr> </table>			752		+ 186						<p>E</p> <table border="1" style="border-collapse: collapse; width: 60px; height: 60px; margin: auto;"> <tr><td style="width: 20px; height: 20px;"></td><td style="width: 20px; height: 20px;"></td></tr> <tr><td style="text-align: center;">561</td><td></td></tr> <tr><td style="text-align: center;">+ 419</td><td></td></tr> <tr><td colspan="2" style="border-top: 1px solid black;"></td></tr> <tr><td style="width: 20px; height: 20px;"></td><td style="width: 20px; height: 20px;"></td></tr> </table>			561		+ 419						<p>F</p> <table border="1" style="border-collapse: collapse; width: 60px; height: 60px; margin: auto;"> <tr><td style="width: 20px; height: 20px;"></td><td style="width: 20px; height: 20px;"></td></tr> <tr><td style="text-align: center;">709</td><td></td></tr> <tr><td style="text-align: center;">+ 100</td><td></td></tr> <tr><td colspan="2" style="border-top: 1px solid black;"></td></tr> <tr><td style="width: 20px; height: 20px;"></td><td style="width: 20px; height: 20px;"></td></tr> </table>			709		+ 100					
752																																
+ 186																																
561																																
+ 419																																
709																																
+ 100																																
<p>G</p> <table border="1" style="border-collapse: collapse; width: 60px; height: 60px; margin: auto;"> <tr><td style="width: 20px; height: 20px;"></td><td style="width: 20px; height: 20px;"></td></tr> <tr><td style="text-align: center;">347</td><td></td></tr> <tr><td style="text-align: center;">+ 87</td><td></td></tr> <tr><td colspan="2" style="border-top: 1px solid black;"></td></tr> <tr><td style="width: 20px; height: 20px;"></td><td style="width: 20px; height: 20px;"></td></tr> </table>			347		+ 87						<p>H</p> <table border="1" style="border-collapse: collapse; width: 60px; height: 60px; margin: auto;"> <tr><td style="width: 20px; height: 20px;"></td><td style="width: 20px; height: 20px;"></td></tr> <tr><td style="text-align: center;">164</td><td></td></tr> <tr><td style="text-align: center;">+ 127</td><td></td></tr> <tr><td colspan="2" style="border-top: 1px solid black;"></td></tr> <tr><td style="width: 20px; height: 20px;"></td><td style="width: 20px; height: 20px;"></td></tr> </table>			164		+ 127						<p>I</p> <table border="1" style="border-collapse: collapse; width: 60px; height: 60px; margin: auto;"> <tr><td style="width: 20px; height: 20px;"></td><td style="width: 20px; height: 20px;"></td></tr> <tr><td style="text-align: center;">235</td><td></td></tr> <tr><td style="text-align: center;">+ 246</td><td></td></tr> <tr><td colspan="2" style="border-top: 1px solid black;"></td></tr> <tr><td style="width: 20px; height: 20px;"></td><td style="width: 20px; height: 20px;"></td></tr> </table>			235		+ 246					
347																																
+ 87																																
164																																
+ 127																																
235																																
+ 246																																

Terça-feira: 27/10

Português

Habilidades (EF02LP25/EF02LP26)

Página 83 a 86

Letra R/ R ou RR/ R em final de sílaba

A LETRA DO DIA



R

A Casa da Bruxa

Na casa da bruxa tudo é muito esquisito.

A mesa é uma grande tartaruga, sobre o seu casco a bruxa almoça e janta. As vezes a tartaruga sai andando pela sala, para esfriar a sopa!

A estante é um polvo enorme, que segura uma pilha de livros em cada braço.

O fogão é um dragão cor-de-rosa que esquentas as panelas com seu bafo...

A bruxa Tuxa não mora sozinha: tem uma cozinheira, uma secretária e um guarda para tomar conta da casa.

Sua cozinheira é uma colher de pau, que pula pela cozinha, mexendo a comida enquanto está esquentando com o fogo do dragão.

A secretária é uma vassoura que atende a porta, fala ao telefone, e ainda leva recados para os bruxos da vizinhança!

O guarda é um portão de madeira, que só abre quando vai com a cara da visita....

Na casa da bruxa Tuxa tudo é diferente. O que devia ser gente é coisa, e o que devia ser coisa é bicho. Que casa maluca!

COPIE E RESPONDA NO CADERNO AS QUESTÕES:

1-O que tinha de estranho na casa da bruxa?

2-Quem mora com a Tuxa?

3-Por que a casa de Tuxa é diferente?

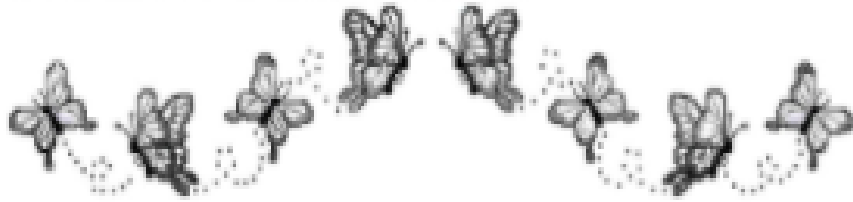
4-Se você fosse a bruxa o que você gostaria de ter? Justifique sua resposta.

5-Desenhe como seria sua casa se você fosse a bruxa Tuxa.

COPIE E RESOLVA OS PROBLEMAS NO CADERNO:



► RESOLVA AS SITUAÇÕES PROBLEMÁTICAS, REPRESENTANDO COM DESENHOS:



1-A BRUXA CASTANHA TINHA COLOCADO 20 COPOS EM CIMA DO FOGÃO. MAS, DE REPENTE, VEIO UM GATINHO E PULOU NO FOGÃO DERRUBANDO 6 COPOS. ELA FICOU FURIOSA! QUANTOS COPOS ELA TEM AGORA?

RESPOSTA: _____

2-ESSA BRUXA É MUITO GULOSA, COMPROU UMA CAIXA COM 25 BOMBONS E COMEU 15 DE UMA VEZ. QUANTOS BOMBONS RESTARAM NA CAIXA?

RESPOSTA: _____

3-ORA ESSA, A BRUXA CASTANHA ADORA UM DISPARATE! TINHA 12 VASSOURAS VELHAS E RESOLVEU COMPRAR 7 VASSOURAS QUEBRADAS.COM ISSO ELA FICOU COM QUANTAS VASSOURAS AO TODO?

RESPOSTA: _____


4-A BRUXA CASTANHA RESOLVEU FAZER UMA SOPA SABOROSA. PARA FAZER A TAL SOPA, ELA VAI PRECISAR DE 14 BANANAS E 10 MELANCIAS. QUANTAS FRUTAS ELA VAI USAR AO TODO?


RESPOSTA: _____

ATIVIDADE AVALIATIVA

Observe os desenhos, e **COPIE EM SEU CADERNO**, as frases na sequência correta dos acontecimentos.



- ELA TRANSFORMOU A MOSCA EM HIPOPÓTAMO.
- OS DOIS COMEM NO PIQUENIQUE.
- A BRUXINHA E O GATO CHEGAM PARA O PIQUENIQUE..
- A MOSCA APARECE VOANDO..
- A BRUXINHA TENTA MATAR A MOSCA INTRUSA.
- A BRUXINHA FAZ UMA MÁGICA COM SUA VAR 



Observação: A Base Nacional Comum Curricular está disponível para download no portal da prefeitura, caso os pais e/ou responsáveis queiram consultar os códigos das habilidades que estão no planejamento. Também é possível encontrar a BNCC no link:

http://basenacionalcomum.mec.gov.br/images/BNCC_EI_EF_110518_versaofinal_site.pdf