



ESCOLA DE EDUCAÇÃO BÁSICA MUNICIPAL MADRE LEONTINA

PROFESSORA: KELLY PATRICIA MELLO SILVA

PERÍODO DE EXECUÇÃO DAS ATIVIDADES: 02/11 A 06/11/2020

ALUNO: \_\_\_\_\_ 1º ANO

AS ATIVIDADES RESOLVIDAS DEVEM SER ENVIADAS VIA WHATSAPP PARA A PROFESSORA KELLY NO NÚMERO 99833-5903.

SEGUE LINK DA EXPLICAÇÃO DA AULA  $\Rightarrow$  <https://youtu.be/-1ompHheaR8>

➤ SEGUNDA-FEIRA

**VAMOS LER!**

- LEIA O POEMA ABAIXO: (EF01LP13)

### TATU E JUJU

TATAU, O TATU-BOLA, E JUJU, A JOANINHA, VIVEM INVENTANDO JOGOS PARA BRINCAR.

LOGO CEDO, A BRINCADEIRA É DE “ESCONDE-ESCONDE”! E LÁ VÃO ELES PROCURAR A TURMA NO MEIO DO JARDIM.

MARTINEZ, J. C. *Tatau e Juju*. São Paulo: FTD, 1996 (adaptado para fins didáticos).

- AGORA QUE VOCÊ JÁ CONHECE OS DOIS PERSONAGENS DO POEMA, COMPLETE OS ESPAÇOS:

### TATU E JUJU

\_\_ATAU, O TAT\_\_-BOLA, E \_\_UJU, A JOANINH\_\_, VIVEM INVENTANDO JOGOS PARA BRINCAR.

LOGO CEDO, A BR\_\_NCADEIRA É DE “ \_\_SCONDE- ESC\_\_NDE”! E LÁ VÃO ELES PROCURAR A TURMA NO MEIO DO JA\_\_DIM.

- OBSERVE A SEQUÊNCIA E RESPONDA.(EF01LP05)

25

27

30

31

33

34

26

28


29

32


- ELA ESTÁ NA ORDEM CORRETA? \_\_\_\_\_
- QUAL É O NÚMERO MAIOR? \_\_\_\_\_
- QUAL É O NÚMERO MENOR? \_\_\_\_\_
- QUAIS SÃO OS NÚMEROS PARES? \_\_\_\_\_

➤ TERÇA-FEIRA

NUMERE AS ÁRVORES DA MAIS ALTA PARA A MAIS BAIXA. (1 PARA MAIS ALTA 5 PARA A MAIS BAIXA) (EF01MA09)



➤ DENTRO DO QUADRO ESTÃO DESENHADOS ALGUNS OBJETOS. VOCÊ CONSEGUE DESCOBRIR QUAIS SÃO? ESCREVA O NOME DELES EM ORDEM ALFABÉTICA. (EF01LP11)



---

---

---


➤ ESCOLHA UM OBJETO DA ATIVIEDEDA ACIMA E ESCREVA UMA FRASE.

---

---

O SOL E A SOMBRA

- DESENHE O SOL NO CÉU, DE ACORDO COM A POSIÇÃO DAS SOMBRA. DEPOIS, PINTE A FIGURA. (EF01CI05)



- COMPLETE OS QUADRINHOS.

O SOL É A FONTE DE 

--	--	--

 E 

--	--	--	--	--

 DO NOSSO PLANETA.



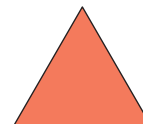

OBSERVE E LIGUE. (EF01MA13)

QUADRADO

RETÂNGULO

CÍRCULO

TRIÂNGULO



COMPLETE.

- O QUADRADO TEM \_\_\_\_\_ LADOS.
- O TRIÂNGULO TEM \_\_\_\_\_ LADOS.
- O RETÂNGULO TEM \_\_\_\_\_ LADOS.

ADIVINHE O QUE É?

COMPLETE AS FRASES COM AS PALAVRAS DO QUADRO. (EF01LP17)

BALA – ABA – BICO – PATO – PICO – BONÉ

- a) A PARTE DO \_\_\_\_\_ QUE FICA NA FRENTE É A \_\_\_\_\_.
- b) QUAL AVE TEM O \_\_\_\_\_ MAIOR: O TUCANO OU O \_\_\_\_\_?
- c) PREFIRO \_\_\_\_\_ DE FRUTAS.
- d) VAMOS ATÉ O \_\_\_\_\_ DA MONTANHA?

