



ESCOLA DE EDUCAÇÃO BÁSICA MUNICIPAL MADRE LEONTINA

PROFESSORA: KELLY PATRICIA MELLO SILVA

PERÍODO DE EXECUÇÃO DAS ATIVIDADES: 02/11 A 06/11/2020

ALUNO: \_\_\_\_\_ 5º ANO

AS ATIVIDADES RESOLVIDAS DEVEM SER ENVIADAS VIA WHATSAPP PARA A PROFESSORA KELLY NO NÚMERO 99833-5903.

SEGUE LINK DA EXPLICAÇÃO DA AULA  <https://youtu.be/-1ompHheaR8>

➤ SEGUNDA-FEIRA

**VAMOS LER!**

- LEIA O POEMA ABAIXO: (EF01LP13)

### TATU E JUJU

TATAU, O TATU-BOLA, E JUJU, A JOANINHA, VIVEM INVENTANDO JOGOS PARA BRINCAR.

LOGO CEDO, A BRINCADEIRA É DE “ESCONDE-ESCONDE”! E LÁ VÃO ELES PROCURAR A TURMA NO MEIO DO JARDIM.

MARTINEZ, J. C. *Tatau e Juju*. São Paulo: FTD, 1996 (adaptado para fins didáticos).

- AGORA QUE VOCÊ JÁ CONHECE OS DOIS PERSONAGENS DO POEMA, COMPLETE OS ESPAÇOS:

### TATU E JUJU

\_\_ATAU, O TAT\_\_-BOLA, E \_\_UJU, A JOANINH\_\_, VIVEM INVENTANDO JOGOS PARA BRINCAR.

LOGO CEDO, A BR\_\_NCADEIRA É DE “ \_\_SCONDE- ESC\_\_NDE”! E LÁ VÃO ELES PROCURAR A TURMA NO MEIO DO JA\_\_DIM.

- OBSERVE A SEQUÊNCIA E RESPONDA.(EF01LP05)

25

27

30

31

33

34

26

28

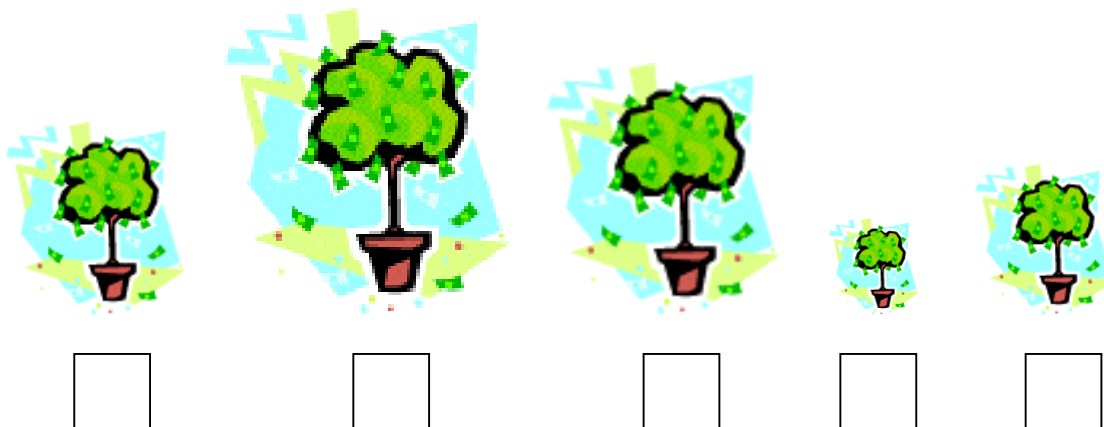
29

32


- ELA ESTÁ NA ORDEM CORRETA? \_\_\_\_\_
- QUAL É O NÚMERO MAIOR? \_\_\_\_\_
- QUAL É O NÚMERO MENOR? \_\_\_\_\_
- QUAIS SÃO OS NÚMEROS PARES? \_\_\_\_\_

➤ TERÇA-FEIRA

NUMERE AS ÁRVORES DA MAIS ALTA PARA A MAIS BAIXA. (1 PARA MAIS ALTA 5 PARA A MAIS BAIXA) (EF01MA09)



➤ DENTRO DO QUADRO ESTÃO DESENHADOS ALGUNS OBJETOS. VOCÊ CONSEGUE DESCOBRIR QUAIS SÃO? ESCREVA O NOME DELES EM ORDEM ALFABÉTICA. (EF01LP11)



---

---

---


➤ ESCOLHA UM OBJETO DA ATIVIEDEDA ACIMA E ESCREVA UMA FRASE.

---

---

O SOL E A SOMBRA

- DESENHE O SOL NO CÉU, DE ACORDO COM A POSIÇÃO DAS SOMBRA. DEPOIS, PINTE A FIGURA. (EF01CI05)



- COMPLETE OS QUADRINHOS.

O SOL É A FONTE DE 

--	--	--

 E 

--	--	--	--	--

 DO NOSSO PLANETA.



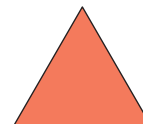

OBSERVE E LIGUE. (EF01MA13)

QUADRADO

RETÂNGULO

CÍRCULO

TRIÂNGULO



COMPLETE.

- O QUADRADO TEM \_\_\_\_\_ LADOS.
- O TRIÂNGULO TEM \_\_\_\_\_ LADOS.
- O RETÂNGULO TEM \_\_\_\_\_ LADOS.

ADIVINHE O QUE É?

COMPLETE AS FRASES COM AS PALAVRAS DO QUADRO. (EF01LP17)

BALA – ABA – BICO – PATO – PICO – BONÉ

- a) A PARTE DO \_\_\_\_\_ QUE FICA NA FRENTE É A \_\_\_\_\_.
- b) QUAL AVE TEM O \_\_\_\_\_ MAIOR: O TUCANO OU O \_\_\_\_\_?
- c) PREFIRO \_\_\_\_\_ DE FRUTAS.
- d) VAMOS ATÉ O \_\_\_\_\_ DA MONTANHA?

REPÚBLICA FEDERATIVA DO BRASIL  
REGISTRO CIVIL DAS PESSOAS NATURAS

**CERTIDÃO DE NASCIMENTO**

999999999999 9999 9 9999 999 999999999 99

DATA DE NASCIMENTO (POR EXTENSO) **Vinte de Janeiro de dois mil e onze** DIA **20** MES **01** ANO **2011**

HORA DE NASCIMENTO **22:45**

MUNICÍPIO DE NASCIMENTO E UNIDADE DA FEDERAÇÃO **Rio de Janeiro -RJ** LOCAL DE NASCIMENTO **Maternidade Municipal** SEXO **Feminino**

FILIAÇÃO **JOÃO PAULO MARQUES FERREIRA** PAI **Patricia de Souza Pires Ferreira** MÃE

AVÓS **Paulo Roberto Ferreira** AVO MATERNO **Alonso Fernandes Pires** AVO MATERNA **Caterina de Souza Pires**

AVÓ MATERNA **Nilda Maria Marques Ferreira**

CITADOS **Nome e Matricula dos Citados**

DECLARANTE

DATA DO REGISTRO (POR EXTENSO) **Vinte e um de Janeiro de dois mil e onze** NÚMERO DA DMV/DECLARAÇÃO DE NASCIMENTO **4.321**

OBSERVAÇÕES / AVERBAÇÕES

NOME DO OFÍCIO **O cartório da certidão é verdadeiro. Dou fé.**  
OFICIAL REGISTRADOR **Data e local: Rio de Janeiro, 21 de Janeiro de 2011**

MUNICÍPIO / UF **Rio de Janeiro**

ENDEREÇO **Rua Cosme Velho, 32**

Assinatura do Oficial

❖ OBSERVE O DOCUMENTO ACIMA ATENTAMENTE. AGORA RESPONDA: ((EF02HI05))

A. QUE DOCUMENTO É ESSE?

---

B. VOCÊ JÁ VIU UM DOCUMENTO IGUAL À ESTE?

---

**BONS ESTUDOS!**

As referências das atividades propostas podem ser acessadas pelo link:

[http://basenacionalcomum.mec.gov.br/images/BNCC\\_EI\\_EF\\_110518\\_versaofinal\\_site.pdf](http://basenacionalcomum.mec.gov.br/images/BNCC_EI_EF_110518_versaofinal_site.pdf)