




ESCOLA DE EDUCAÇÃO BÁSICA MUNICIPAL MADRE LEONTINA
ATIVIDADES DA SEMANA

PROFESSORA: KELLY PATRICIA MELLO SILVA

PERÍODO DE EXECUÇÃO DAS ATIVIDADES: 09/11 A 13/11/2020

ALUNO: _____ 2º ANO

AS ATIVIDADES RESOLVIDAS DEVEM SER ENVIADAS VIA WHATSAPP PARA A PROFESSORA KELLY NO NÚMERO 99833-5903.

SEGUE LINK DA EXPLICAÇÃO DA AULA  https://youtu.be/fJnqhOhV_ci

➤ SEGUNDA-FEIRA

● OBSERVE E RESPONDA.(EF01MA15)

2 LITROS

10 LITROS

20 LITROS


5 LITROS



- QUANTOS LITROS CABEM NO BALDE? _____
- E NO GALÃO? E NA BACIA? E NA GARRAFA? _____

➤ COMPLETE O DIAGRAMA (EF01LP16)

1. O CONTRÁRIO DE CLARO.
2. PROFISSIONAL QUE CONSTRÓI CASAS.
3. BICHO VENENOSO E PELUDO, COM VÁRIAS PATAS, QUE TECE TEIAS.
4. ELE É O AMIGO MAIS FIEL DO HOMEM.
5. LOCAL DE ONDE PARTEM ÔNIBUS PARA VÁRIOS LUGARES.



➤ **TERÇA-FEIRA**

ESCREVA:(EF01LP23)

a) O NOME DE DOIS OBJETOS QUE SÃO ESCRITOS COM RR.

b) SEPRE AS SÍLABAS DAS PALAVRAS QUE VOCÊ ESCOLHEU.

• DESAFIO: USANDO AS SÍLABAS ACIMA, VOCÊ CONSEGUE CRIAR OUTRAS PALAVRAS?

• QUAL É A LETRA INICIAL DAS PALAVRAS:

PONTE _____

RUA _____

CÉU _____

GENTE _____

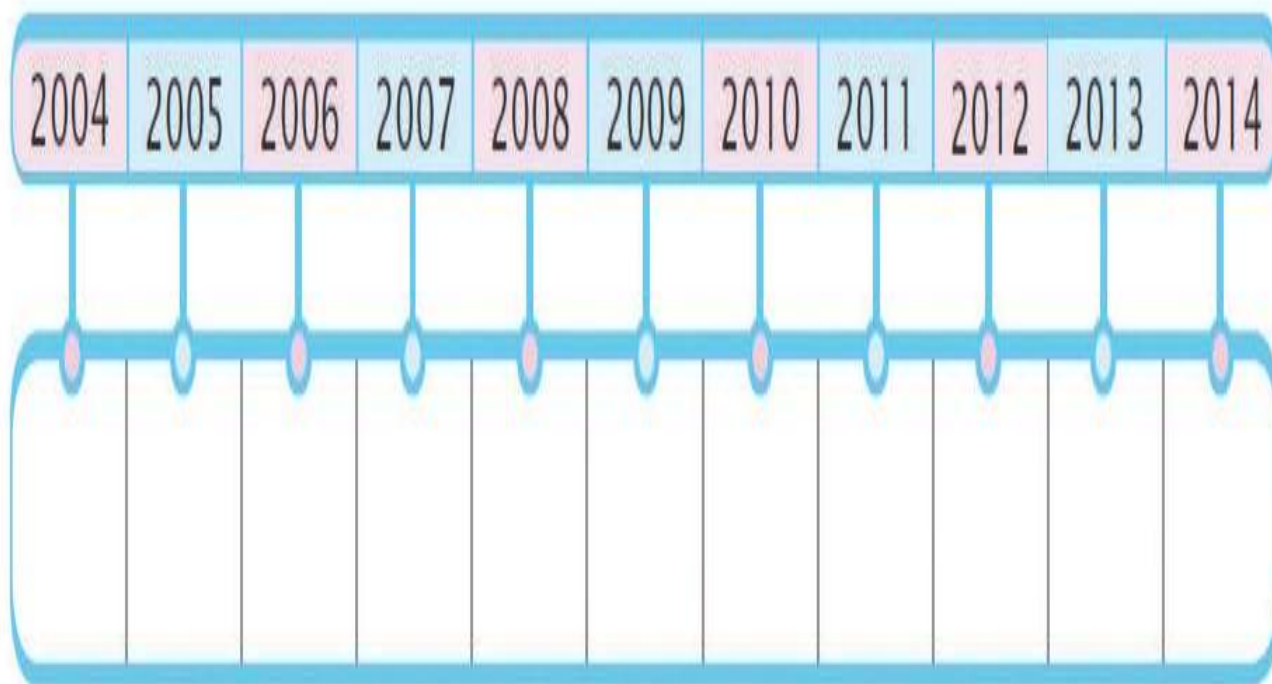
❖ PROCURE NO CAÇA-PALAVRAS 10 PALAVRAS ESCRITAS COM G OU J.

A	S	D	F	G	H	J	K	L	Ç	M	A	G	I	C	O	S	Q	W	E	R
T	Y	U	I	O	P	Z	X	C	V	I	A	G	E	M	L	K	J	H	G	F
Q	W	B	E	R	I	N	J	E	L	A	G	Y	U	I	J	H	G	F	U	H
J	H	G	M	A	J	E	S	T	A	D	E	W	E	R	U	T	E	R	O	P
R	T	U	L	A	R	A	N	J	E	I	R	A	S	U	I	O	P	Z	X	F
O	G	I	R	A	S	S	O	L	Ç	L	G	E	L	A	T	I	N	A	H	J
J	I	P	E	K	L	I	G	E	I	R	O	D	S	A	R	J	E	T	A	P

➤ **QUARTA-FEIRA**

COMPLETE A LINHA DO TEMPO COM INFORMAÇÕES SOBRE A SUA VIDA. REPRE QUE OS ACONTECIMENTOS JÁ ESTÃO INDICADOS. SÓ É PRECISO COLOCÁ-LOS NOS ANOS CORRESPONDENTES DA LINHA DO TEMPO. (EF01HI01)

- ANO DO MEU NASCIMENTO.
- ANO EM QUE ESTAVA NO 1^º ANO.
- ANO EM QUE ESTOU NO 2^º ANO.

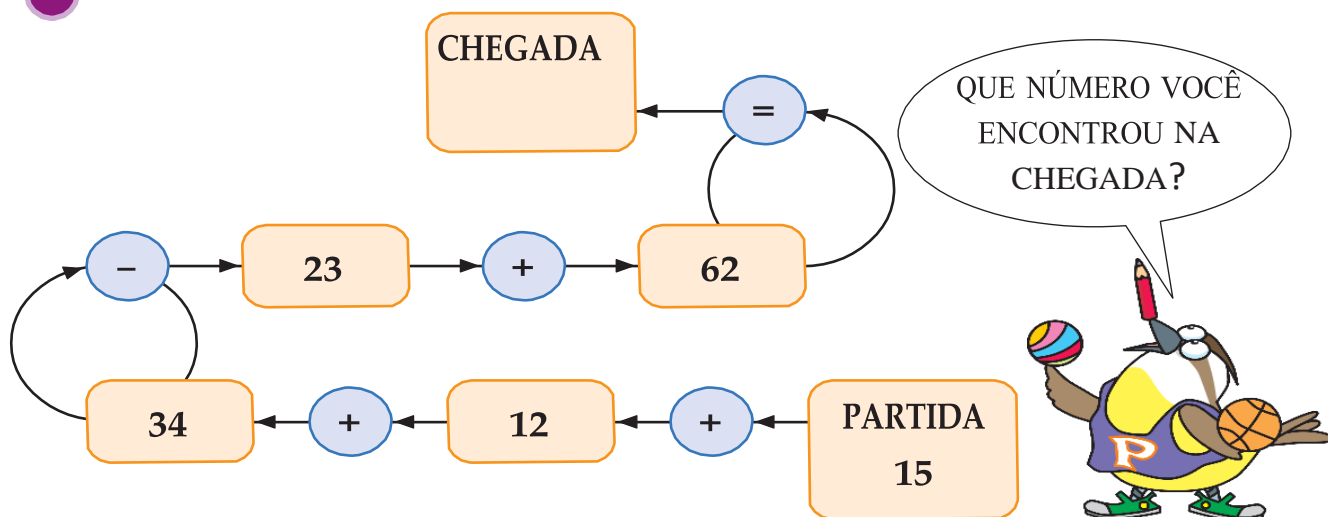


➤ **DESENHE COMO VOCÊ ERA QUANDO NASCEU:**

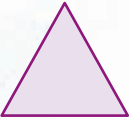
A large, empty rounded rectangle with a dark blue border, intended for the student to draw a picture of themselves as a newborn.


➤ QUINTA-FEIRA


● CALCULE E RESPONDA.(EF01MA06)




● COMPLETE.





13 + 14 = 





15 + 16 = 

16 + 17 = 

18 + 19 = 

• AGORA, CALCULE:

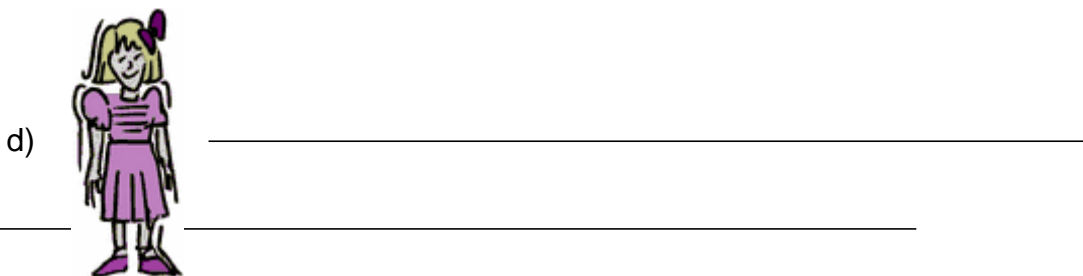

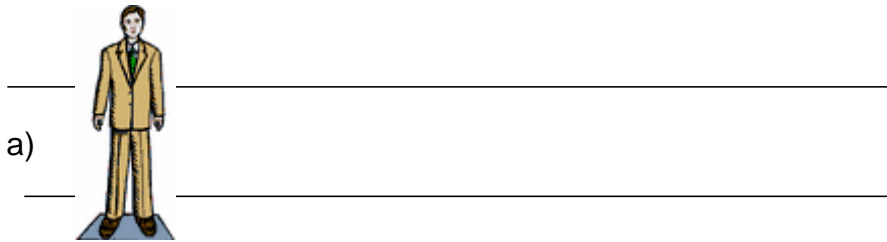
 +  +  -  = _____

 -  +  -  = _____

➤ **SEXTA-FEIRA**

PRÓPRIO OU COMUM? (EF01LP23)

❖ **ESCREVA O NOME DE CADA FIGURA EM SEGUIDA CRIE UMA FRASE PARA CADA UMA.**



BONS ESTUDOS!

As referências das atividades propostas podem ser acessadas pelo link:

http://basenacionalcomum.mec.gov.br/images/BNCC_EI_EF_110518_versaofinal_site.pdf