



Escola de Educação Básica Municipal Madre Leontina  
Professora: Dayane Vieira Martins dos Santos  
Turma: 2º ano  
Período de execução das atividades: 23/11/2020 a 27/11/2020.  
Aluno(a): \_\_\_\_\_

## ATENÇÃO!

**Observação:** A partir de agora com a entrega dos materiais didáticos, algumas das atividades deverão ser realizadas nos livros e outras atividades quando solicitadas copiadas no caderno. As fotos das atividades desenvolvidas deverão ser enviadas, até sexta-feira dia 27/11 para acompanhamento, após isso, somente estarei revendo as atividades na segunda-feira.

**EM CASO DE DÚVIDAS:** Meu número: **99828-3029**

### ATIVIDADES DA SEMANA

Segunda-feira: 23/11

Português

Habilidades (EF12LP02/EF02LP08/EF12LP03)

### ATIVIDADE AVALIATIVA

Reescreva o texto, acrescentando pontuação, acentuação e letras maiúsculas quando necessário.

Carolina é uma menina muito legal no dia do seu aniversário ganhou de sua mãe uma boneca um dia brincando no jardim viu uma fada que a levou para dar um passeio no mundo do faz de conta A menina levou a boneca que havia ganhado de sua mãe elas conheceram muitas coisas interessantes nuvens coloridas duendes anões bruxas e dragões Ao entardecer a fada levou a menina de volta para casa sua mãe estava muito preocupada ficou feliz ao ver Carolina e naquela noite foi a menina quem lhe contou uma bela história

Terça-feira: 24/11

Matemática

Habilidades(EF02MA07/EF02MA08)

**COPIE E RESPONDA EM SEU CADERNO**

**CASO RECEBA IMPRESSO, RECORTAR E COLAR NO CADERNO.**

**LEIA COM ATENÇÃO OS POEMAS PROBLEMAS**



NO PARQUINHO DA ESCOLA  
10 MENINAS NO BALANÇO  
6 MENINOS ESCORREGANDO  
2 NO BANCO DO DESCANSO!

QUANTAS CRIANÇAS BRINCANDO?



ANA 2 COPOS DE CALDO DE CANA  
MARCEL 3 COPOS DE MEL  
IRACI TOMA 1 COPO DE AÇAÍ  
4 COPOS DE ÁGUA A ISABEL!

QUANTOS COPOS CONTEI POR AQUI?



PARA O LANCHE DA TARDE  
DUAS PIZZAS FORAM PEDIDAS,  
SENDO EM CADA UMA 6 PARTES  
APENAS 9 FORAM COMIDAS!

QUANTAS PARTES SOBRARAM DA  
PIZZA?



VAI CHOVER, SIM SENHOR  
DEU O AVISO NO JORNAL  
DOS 9 PARES DE BOTAS  
COMPROU 2, O JUVENAL!

QUANTAS RESTARAM AFINAL?



1 SAPO PULOU NO VASO  
2 SAPOS NO GUARDA-CHUVA  
3 SAPOS SAÍRAM DO LAGO  
E 4 NO FINAL DA CURVA!

QUANTOS SAPOS, ENTÃO CONTADOS?



NO INÍCIO DO DIA  
HAVIAM 20 MARGARIDAS  
NO CARRINHO, AO FINAL  
APENAS 6 JÁ SOFRIDAS!


QUANTAS FORAM ADQUIRIDAS?



**OBSERVE ATENTAMENTE O QUE SE PASSA NAS CENAS E ESCREVA**

**UMA HISTÓRIA**

**BEM DIVERTIDA EM SEU CADERNO!**



Um dia \_\_\_\_\_

---

---

---

Ele \_\_\_\_\_

---

---



De repente \_\_\_\_\_

---

---

Desesperado \_\_\_\_\_

---

---



Os dois \_\_\_\_\_

---

---

O gato \_\_\_\_\_


---

---


**COPIE E RESOLVA EM SEU CADERNO**

**VOCÊ PODERÁ REPRESENTAR ATRAVÉS DE DESENHO CASO QUEIRA**

**PROBLEMINHAS PARA RESOLVER**



A galinha maricota põe 3 ovos por dia.  
Quanto ovo teremos daqui a 17 dias?  
Calcule.



Magali é muito gulosa e gosta muito de comer biscoitos.  
Ela come 2 pacotes de biscoitos por dia  
e cada pacote contém 12 biscoitos.  
Então, qual o total de biscoito que ela  
come por dia?



Mickey organizou uma excursão, e  
precisa levar 36 malas. Cada viagem,  
ela leva duas malas. Quantas viagens  
será necessária para ele levar todas?

**Observação:** A Base Nacional Comum Curricular está disponível para download no portal da prefeitura, caso os pais e/ou responsáveis queiram consultar os códigos das habilidades que estão no planejamento. Também é possível encontrar a BNCC no link:

[http://basenacionalcomum.mec.gov.br/images/BNCC\\_EI\\_EF\\_110518\\_-versaofinal\\_site.pdf](http://basenacionalcomum.mec.gov.br/images/BNCC_EI_EF_110518_-versaofinal_site.pdf)