



ESCOLA DE EDUCAÇÃO BÁSICA MUNICIPAL MADRE LEONTINA

PROFESSORA: DAYANE VIEIRA MARTINS DOS SANTOS

ALUNO (A): \_\_\_\_\_ 2º ANO

PERÍODO DE EXECUÇÃO DAS ATIVIDADES: 22/03 a 26/03/2021

Os alunos que fazem parte exclusivamente do ensino remoto devem enviar fotos das atividades realizadas até nas sextas-feiras.

**EM CASO DE DÚVIDAS:** Meu número: **99828-3029**

### ATIVIDADES DA SEMANA

SEGUNDA-FEIRA: 22/03 HABILIDADES(EF12LP01/EF12LP03/EF12LP03/EF01LP12)

DIA 22 DE MARÇO, COMEMORAMOS O DIA DA ÁGUA!

**COPIE O TEXTO EM SEU CADERNO, LEIA** E DEPOIS TENDE CANTAR JUNTO COM O VÍDEO!

#### DE GOTINHA EM GOTINHA

ÁGUA É UMA GOTA DE CHUVA  
É UMA GOTA DE NUVEM  
É UMA GOTA DE ÁGUA PRA VIVER

ÁGUA É UMA GOTA DE CHUVA  
É UMA GOTA DE NUVEM  
É UMA GOTA DE ÁGUA PRA VIVER

DE GOTINHA EM GOTINHA  
BRILHA NO ORVALHO DA MANHÃ  
DE GOTINHA EM GOTINHA  
LIMPA O OCEANO DE AMANHÃ

ÁGUA É UMA GOTA DE CHUVA  
É UMA GOTA DE NUVEM  
É UMA GOTA DE ÁGUA PRA VIVER

DE GOTINHA EM GOTINHA  
BRILHA NO ORVALHO DA MANHÃ

DE GOTINHA EM GOTINHA  
LIMPA O OCEANO DE AMANHÃ  
É PRA CUIDAR, PURIFICAR

ÁGUA É UMA GOTA DE CHUVA  
É UMA GOTA DE NUVEM  
É UMA GOTA DE ÁGUA PRA VIVER

ÁGUA É UMA GOTA DE CHUVA  
É UMA GOTA DE NUVEM  
É UMA GOTA DE ÁGUA PRA VIVER


ERA UMA VEZ UMA GOTINHA DE ÁGUA  
REDONDINHA E BONITINHA  
UM DIA ELA TAVA TOMANDO BANHO DE SOL  
E A COITADINHA QUE JÁ...

[PALAVRA CANTADA](#)

- ASSISTA AO VÍDEO E DEPOIS REALIZE AS ATIVIDADES!

[https://www.youtube.com/watch?v=N9cwDz45\\_ik](https://www.youtube.com/watch?v=N9cwDz45_ik)

MONTE A SUA GOTINHA, COMO NO EXEMPLO, ABAIXO. DEPOIS QUE VOCÊ RECORTOU, PINTOU, FAÇA A LEITURA.



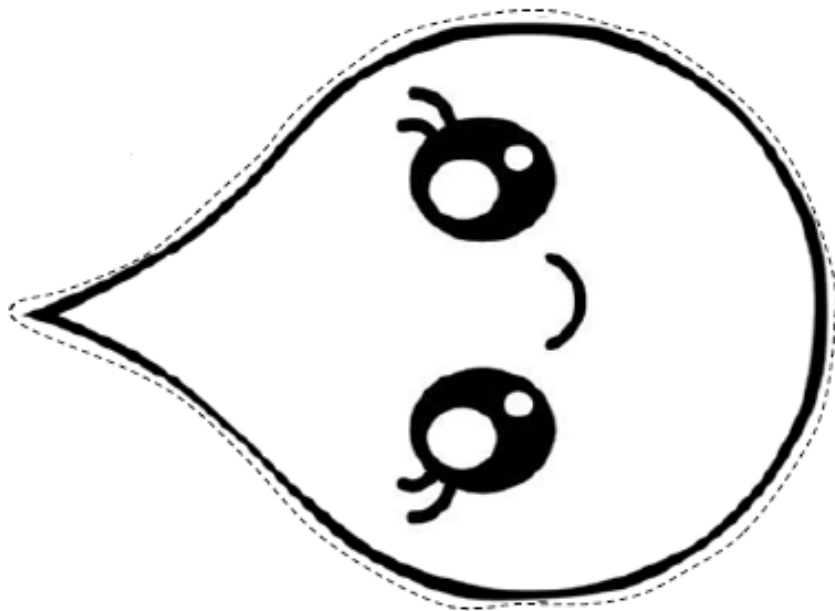
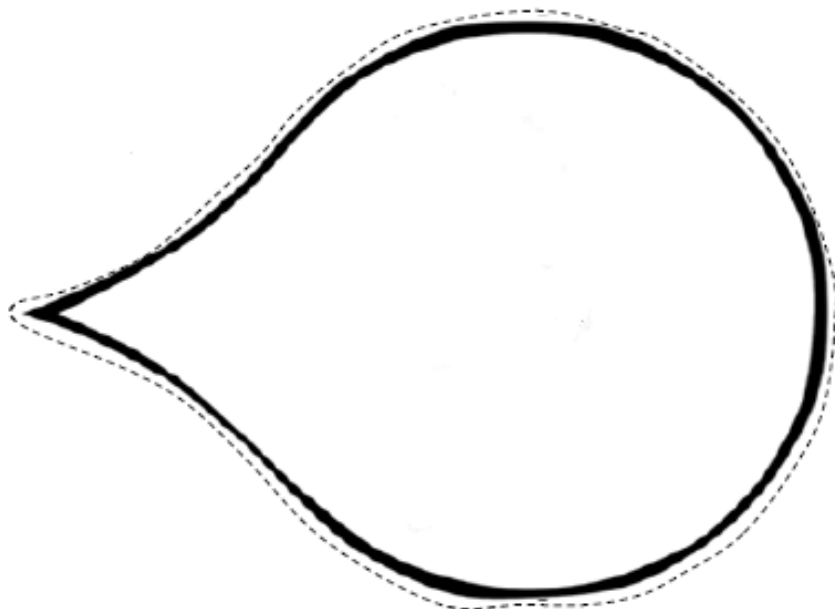
MONTE A SUA GOTINHA E VEJA ALGUMAS UTILIDADES DA ÁGUA.

**USOS DA  
ÁGUA**




PEDAGOGA INGRID MORAES

Cuidar da água  
é essencial para  
preservar a vida.



VAMOS TRABALHAR COM FRASES!



- OBSERVE AS CENAS, RECORTE E MONTE AS FRASES EM SEU CADERNO.



O MÉXICO. MARINA

VIAJAR PARA VAI



NO PEIXE TEM

PEDRO UM AQUÁRIO.



UMA VALSA VIOLÃO.

NO TOCA BELA

VIVIANE



COMPLETE O PERCURSO EM ORDEM DECRESCENTE E AJUDE O MENINO A ENCONTRAR SUA BOLA.




50 49 ○ ○ 46 45 ○  
○ 43

33 34 ○ 36 ○ 38 ○ ○ 41 ○  
○

31 ○ ○ 28 ○ 26 25 ○ 23 22  
○

11 ○ 13 14 ○ 16 17 ○ 19 ○  
○

9 ○ 7 ○ ○ 4 3 ○ ○



QUARTA-FEIRA: 24/03

HABILIDADES (EF02LP02/EF01LP1/EF01MA06)

**AVALIAÇÃO DE MATEMÁTICA**



ESCOLA DE EDUCAÇÃO BÁSICA MUNICIPAL MADRE LEONTINA

PROFESSORA: DAYANE VIEIRA MARTINS DOS SANTOS

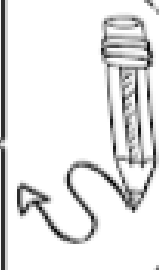
ALUNO (A): \_\_\_\_\_ 2º ANO

DATA: \_\_\_\_/03/2021


### ATIVIDADE AVALIATIVA MATEMÁTICA

1- COMPLETE AS SEQUÊNCIAS NUMÉRICAS CORRETAMENTE: (1,5 OU 0,5 CADA)


QUEM ESTÁ FALTANDO? 1 2 3 4 5 6 7 8 9 10

1		2		4		
2	6		8		10	
3...						

QUEM ESTÁ FALTANDO? 11 12 13 14 15 16 17 18 19 20

1	11		13		15	
2		17		19		
3...						

QUEM ESTÁ FALTANDO? 21 22 23 24 25 26 27 28 29 30

1	21		23			
2		27		29		
3...						

2- RESOLVA AS OPERAÇÕES E PINTA AS BOLINHAS CONFORME O RESULTADO: (4,0 PONTOS OU 0,5 PONTOS CADA)

$5 + 4 =$	
-----------	--



$2 + 3 =$	
-----------	--



$6 + 1 =$	
-----------	--



$3 + 7 =$	
-----------	--



$1 + 4 =$	
-----------	--



$2 + 7 =$	
-----------	--



$3 + 4 =$	
-----------	--












$5 + 5 =$	
-----------	--



3- OBSERVE A QUANTIDADE DE MAÇÃS EM CADA ÁRVORE. DIMINUA RISCANDO A QUANTIDADE DE MAÇÃS QUE CAÍRAM DO PÉ. (3,0 PONTOS OU 0,333 CADA)





$\begin{array}{r} 7 \\ -4 \\ \hline \end{array}$ 	$\begin{array}{r} 2 \\ -1 \\ \hline \end{array}$ 	$\begin{array}{r} 9 \\ -3 \\ \hline \end{array}$ 
$\begin{array}{r} 5 \\ -1 \\ \hline \end{array}$ 	$\begin{array}{r} 10 \\ -2 \\ \hline \end{array}$ 	$\begin{array}{r} 6 \\ -3 \\ \hline \end{array}$ 
$\begin{array}{r} 8 \\ -5 \\ \hline \end{array}$ 	$\begin{array}{r} 4 \\ -4 \\ \hline \end{array}$ 	$\begin{array}{r} 3 \\ -2 \\ \hline \end{array}$ 

4) ESCREVA OS NÚMEROS DE 0 ATÉ O QUE VOCÊ CONSEGUIR. O MÁXIMO É 120. (1,5 PONTO)

ENCONTRE EM CADA CAÇA-PALAVRAS O NOME DAS FIGURAS E  
ESCREVA NO LUGAR CORRETO.

	M O R Ç A O V O B	
	G A I O L A M E R	
	S U B I C I B A R	
	C O H L P Y R B C	
	T R E B I C A T O	
	E B O N E C A R I	


	B O L I M E R U M	
	A B O L S A C U O	
	S U B I C I B A R	
	C O H L P Y R B C	
	D V S A U P O I O	
	A V A S O C A P A	

	Q U I C K O L U M	
	C E P U B O N C A	
	V Q U A D R O G J	
	A T I J O L O N O	
	S I M E A O D A M	
	E H B I C R A D E	

ESCREVA AS PALAVRAS ENCONTRADAS NO CADERNO E SEPRE EM SÍLABAS.

QUINTA-FEIRA: 11/03

HABILIDADES (EF12LP03/EF01LP12)

 - OBSERVE AS CENAS, RECORTE E MONTE AS FRASES EM SEU CADERNO.

	DO	FEZ	FOGUEIRA
	FLÁVIO	NO	FUNDO
	QUINTAL.	UMA	

	E	BARCO.	BEATRIZ
	BRUNO	ESTAVAM	
	PASSEANDO	DE	


NA	E	CAMILA
TOMAM	CAFETERIA.	
CORINA	CAFÉ	



COLOQUE UMA LETRA EM CADA QUADRADINHO. OBSERVE OS ESPAÇOS CORRETOS E DEPOIS FAÇA A LEITURA DA FRASE QUE FORMOU.

JULIA FEZ NOVE ANOS

--	--	--	--	--	--	--	--	--	--	--	--	--	--	--	--	--	--	--	--

																			
	-----																		

O GATO SUBIU NA BACIA

--	--	--	--	--	--	--	--	--	--	--	--	--	--	--	--	--	--	--	--	--

	-----																		

A BANANA É DELICIOSA

--	--	--	--	--	--	--	--	--	--	--	--	--	--	--	--	--	--	--	--	--

	-----																		

VOVÓ USA ÓCULOS



--	--	--	--	--	--	--	--	--	--	--	--	--	--	--	--	--	--	--	--	--

	-----																		



# ÁRVORE DA ADIÇÃO

RECORTE AS MAÇÃZINHAS E COLE-AS NO LUGAR CERTO



BONS ESTUDOS!

## OBSERVAÇÃO:

A Base Nacional Comum Curricular (BNCC) está disponível para download no portal da prefeitura, caso os pais e/ou responsáveis queiram consultar os códigos das habilidades que estão no planejamento. Também é possível encontrar a BNCC no link:

[http://basenacionalcomum.mec.gov.br/images/BNCC\\_EI\\_EF\\_110518\\_-versaofinal\\_site.pdf](http://basenacionalcomum.mec.gov.br/images/BNCC_EI_EF_110518_-versaofinal_site.pdf)



ESCOLA DE EDUCAÇÃO BÁSICA MUNICIPAL MADRE LEONTINA

PROFESSORA: DAYANE VIEIRA MARTINS DOS SANTOS

ALUNO (A): \_\_\_\_\_ 2º ANO


DATA: \_\_\_/03/2021

**ATIVIDADE AVALIATIVA LÍNGUA PORTUGUESA**

1- ESCREVA O NOME DAS FIGURAS: (4,0 PONTOS – 0,25 CADA)



\_\_\_\_\_



\_\_\_\_\_



\_\_\_\_\_



\_\_\_\_\_



\_\_\_\_\_



\_\_\_\_\_



\_\_\_\_\_



\_\_\_\_\_



\_\_\_\_\_



\_\_\_\_\_



\_\_\_\_\_



\_\_\_\_\_



\_\_\_\_\_



\_\_\_\_\_



\_\_\_\_\_



\_\_\_\_\_

2- LEIA O TEXTO E RESPONDA AS PERGUNTAS: (4,0 PONTOS – 1,0 PONTO CADA QUESTÃO)

# A LAGARTA LILA

LILA É UMA LAGARTA  
QUE MORA LÁ NO IPÊ  
QUANDO SENTE MUITA FOME  
PICA A FOLHA PRA COMER



GRAÇA BOQUET

1. LILA É UMA:

2. ELA MORA NO:

3. O QUE LILA FAZ QUANDO SENTE FOME:

( ) COME FOLHA

( ) COME GRÃOS

( ) COME FLORES

4. OBSERVE A PALAVRA ABAIXO:


**LAGARTA**

A) A PRIMEIRA LETRA É: \_\_\_\_\_

B) A ÚLTIMA LETRA É: \_\_\_\_\_

C) A PRIMEIRA SÍLABA É: \_\_\_\_\_

D) A ÚLTIMA SÍLABA É: \_\_\_\_\_

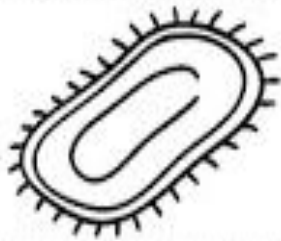


3) LEIA E PINTE A FIGURA DE ACORO COM A FRASE: (2,0 PONTOS – 0,25 CADA)

**EU SOU A ABELHA.**



**EU SOU O TAPETE.**



**EU SOU A CASA.**



**EU SOU O SUCO.**



**BOA AVALIAÇÃO!**