



ESCOLA DE EDUCAÇÃO BÁSICA MUNICIPAL MADRE LEONTINA

PROFESSORA: ESTER LAÍS DOBBERT THOMÉ.

TURMA: 1º ANO MATUTINO E VESPERTINO.

PLANEJAMENTO DE ATIVIDADES DE 17/05/2021 A 21/05/2021

NO CADERNO DE ATIVIDADES

IBICARÉ, 17 E 18 DE MAIO DE 2021.

SEGUNDA-FEIRA E TERÇA-FEIRA

Habilidade BNCC de Língua Portuguesa e Matemática: EF01LP02 – EF01LP06 – EF01LP07 – EF01LP08 – EF01LP09 – EF12LP01 - EF01MA01 – EF01MA04 e EF01MA07.


- 1) ESCREVER A DATA NO CADERNO.
- 2) **TEXTO:** VOCÊ SABE O QUE É DEZENA?
COM AUXÍLIO DE UM ADULTO FAZER A LEITURA.

O QUE É DEZENA?

WENIDARC CINTRA

**O QUE É DEZENA?
VOU AGORA FALAR
CONTE DEVAGARINHO
PARA NÃO ERRAR.
CONTE ATÉ O DEZ
AGORA, VOCÊ DEVE PARAR.**

**CONTE OS DEDOS,
TAMPINHAS E BOTÕES.
DESENHE PIPAS, BOLAS,
LUAS E BALÕES,
PICOLÉS, LÁPIS E COLAS.
VOCÊ VAI APRENDER!
O QUE É DEZENA?
É FÁCIL ENTENDER!**



→ UNIDADE – EQUIVALE A 1.



→ MEIA DEZENA - EQUIVALE A 5 UNIDADES.



→ 1 DEZENA – EQUIVALE A 10 UNIDADES.



5) ATIVIDADE EM FOLHA DEPOIS DE CONCLUÍDA COLAR NO CADERNO.

REPRESENTAÇÕES MATERIAL DOURADO

➔ **DESCUBRA QUAIS SÃO OS NÚMEROS E ESCREVA:**

D U 10 5 15	D U 10 3	D U 10 8	D U 10 3	D U 10 2	D U 20 2
D U 10 3	D U 20 3	D U 20 8	D U 20 0	D U 20 1	D U 20 2

➔ **QUEM SOU EU?**

A) 1 DEZENA E 5 UNIDADES, SOU O

B) 1 DEZENA E 3 UNIDADES, SOU O

C) 2 DEZENAS E 8 UNIDADES, SOU O

D) 2 DEZENAS E 0 UNIDADES, SOU O

E) 1 DEZENA E 2 UNIDADES, SOU O



6) JUNTE AS SÍLABAS E FORME PALAVRAS:

GO + TA = _____

BI + GO + DE = _____

FÍ + GA + DO = _____

TI + GE + LA = _____

A + FO + GA + DO = _____

GE + LA + TI + NA = _____

FO + GÃO = _____

A + MI + GO= _____

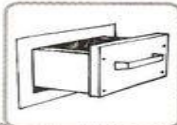







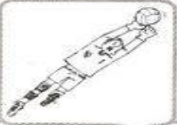

FO + GUE + TE= _____

CO + LE + GA= _____

7) ATIVIDADE EM FOLHA DEPOIS DE CONCLUÍDA COLAR NO CADERNO.

COMPLETANDO

USE GA, GO, GU PARA COMPLETAR O NOME DAS FIGURAS.

 ____ VETA	 CAN ____ RU
 BI ____ DE	 ESCORRE ____ DOR
 ____ RILA	 TARTARU ____
 A ____ LHA	 CO ____ MELO
 ____ LEIRO	 MORAN ____

IBICARÉ, 19 E 20 DE MAIO DE 2021.

QUARTA-FEIRA E QUINTA-FEIRA

Habilidade BNCC de Ciências, Geografia e Matemática: EF01CI05 – EF01CI06 – EF01GE05 e EF01MA07.


- 1) ESCREVER A DATA NO CADERNO.
- 2) VAMOS ASSISTIR AO DVD: HOBBS CÉU E COSMOS.
- 3) RETOMAR ORALMENTE O CONTEÚDO SOBRE SISTEMA SOLAR.
- 4) NO DIA 28 DE MAIO TEREMOS A PROVA DA OLIMPÍADA BRASILEIRA DE ASTRONOMIA – OBA. EM SALA FAREMOS ORALMENTE UM SIMULADO COM ALGUMAS QUESTÕES QUE CAÍRAM NA PROVA NOS ANOS DE 2018, 2019 E 2020.

OS LINKS ABAIXO SÃO DE UM SIMULADO DA OBA DO ANO DE 2020, CASO A FAMÍLIA QUEIRA CONFERIR E AUXILIAR O (A) ALUNO (A) NA PREPARAÇÃO PARA A PROVA.

http://www.oba.org.br/sisglob/sisglob_arquivos/2020/Prova%20nivel%201%20da%2023%20OBA%20DE%202020%20VIRTUAL.pdf (PROVA).

http://www.oba.org.br/sisglob/sisglob_arquivos/2020/Prova%20nivel%201%20da%2023%20OBA%20DE%202020%20GABARITO%20VIRTUAL.pdf (GABARITO).

5) ATIVIDADE EM FOLHA DEPOIS DE CONCLUÍDA COLAR NO CADERNO.



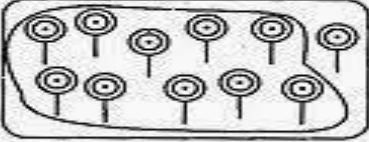









CRUZADINHA

- 1- O MOVIMENTO DA TERRA EM TORNO DE SI MESMA CHAMA-SE: _____
- 2- LUA QUE PARECE UMA BOLA ILUMINADA: _____
- 3- LUA COM QUE PARECE A LETRA C VIRADA: _____
- 4- A TERRA GIRA EM TORNO DO SEU PRÓPRIO: _____
- 5- O MOVIMENTO DA TERRA AO REDOR DO SOL CHAMA-SE: _____
- 6- QUAL FASE DA LUA QUE FICA QUASE INVISÍVEL: _____
- 7- A LUA É O _____ NATURAL DA TERRA.
- 8- AS DIFERENTES FORMAS DA LUA SÃO CHAMADAS DE: _____
- 9- A LUA QUE PARECE A LETRA C CHAMA-SE: _____

6) ATIVIDADE EM FOLHA DEPOIS DE CONCLUÍDA COLAR NO CADERNO.

LIMITANDO E REGISTRANDO

1) Limite uma dezena em cada quadro. Conte os elementos que sobraram. Depois, escreva os numerais no quadro posicional e no pontilhado. Veja o modelo:

	<table border="1"><tr><td>D</td><td>U</td></tr><tr><td>1</td><td>1</td></tr><tr><td colspan="2">.....</td></tr></table>	D	U	1	1			<table border="1"><tr><td>D</td><td>U</td></tr><tr><td> </td><td> </td></tr><tr><td colspan="2">.....</td></tr></table>	D	U			
D	U														
1	1														
.....															
D	U														
.....															
	<table border="1"><tr><td>D</td><td>U</td></tr><tr><td> </td><td> </td></tr><tr><td colspan="2">.....</td></tr></table>	D	U					<table border="1"><tr><td>D</td><td>U</td></tr><tr><td> </td><td> </td></tr><tr><td colspan="2">.....</td></tr></table>	D	U			
D	U														
.....															
D	U														
.....															
	<table border="1"><tr><td>D</td><td>U</td></tr><tr><td> </td><td> </td></tr><tr><td colspan="2">.....</td></tr></table>	D	U					<table border="1"><tr><td>D</td><td>U</td></tr><tr><td> </td><td> </td></tr><tr><td colspan="2">.....</td></tr></table>	D	U			
D	U														
.....															
D	U														
.....															
	<table border="1"><tr><td>D</td><td>U</td></tr><tr><td> </td><td> </td></tr><tr><td colspan="2">.....</td></tr></table>	D	U					<table border="1"><tr><td>D</td><td>U</td></tr><tr><td> </td><td> </td></tr><tr><td colspan="2">.....</td></tr></table>	D	U			
D	U														
.....															
D	U														
.....															
	<table border="1"><tr><td>D</td><td>U</td></tr><tr><td> </td><td> </td></tr><tr><td colspan="2">.....</td></tr></table>	D	U					<table border="1"><tr><td>D</td><td>U</td></tr><tr><td> </td><td> </td></tr><tr><td colspan="2">.....</td></tr></table>	D	U			
D	U														
.....															
D	U														
.....															

7) EM SALA DE AULA OS ALUNOS VÃO MONTAR PALAVRAS UTILIZANDO JOGOS PEDAGÓGICOS. QUEM ESTIVER EM ENSINO REMOTO E TIVER JOGOS EM CASA TAMBÉM PODE FAZER O USO DOS MESMOS.

IBICARÉ, 21 DE MAIO DE 2021.

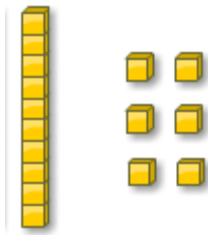
SEXTA-FEIRA

Habilidade BNCC de Matemática: EF01MA01 – EF01MA04 – EF01MA06 - EF01MA07 e EF01MA08.

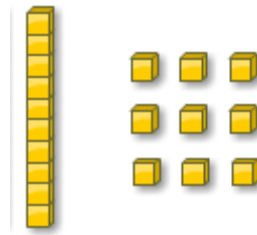
- 1) ESCREVER A DATA NO CADERNO.
- 2) EM SALA UTILIZANDO O MATERIAL DOURADO VAMOS MONTAR VÁRIOS NÚMEROS, A PROFESSORA VAI ESCREVER NO QUADRO E OS ALUNOS TERÃO QUE REPRESENTAR ESSE NÚMERO ATRAVÉS DAS UNIDADES E DEZENAS.
POR EXEMPLO, OS NÚMEROS:



16



19



3) ATIVIDADE EM FOLHA DEPOIS DE CONCLUÍDA COLAR NO CADERNO.

UTILIZANDO O MATERIAL DOURADO RESOLVER AS SEGUINTE OPERAÇÕES:

RESOLVA AS OPERAÇÕES

$\begin{array}{r} 2 \\ +3 \\ \hline \end{array}$	$\begin{array}{r} 4 \\ +4 \\ \hline \end{array}$	$\begin{array}{r} 5 \\ +2 \\ \hline \end{array}$	$\begin{array}{r} 1 \\ +6 \\ \hline \end{array}$	$\begin{array}{r} 3 \\ +4 \\ \hline \end{array}$	$\begin{array}{r} 6 \\ +2 \\ \hline \end{array}$	
$\begin{array}{r} 1 \\ +8 \\ \hline \end{array}$	$\begin{array}{r} 7 \\ +2 \\ \hline \end{array}$	$\begin{array}{r} 8 \\ +1 \\ \hline \end{array}$	$\begin{array}{r} 2 \\ +5 \\ \hline \end{array}$	$\begin{array}{r} 5 \\ +4 \\ \hline \end{array}$	$\begin{array}{r} 3 \\ +3 \\ \hline \end{array}$	$\begin{array}{r} 6 \\ +2 \\ \hline \end{array}$
$\begin{array}{r} 4 \\ -2 \\ \hline \end{array}$	$\begin{array}{r} 6 \\ -4 \\ \hline \end{array}$	$\begin{array}{r} 5 \\ -3 \\ \hline \end{array}$	$\begin{array}{r} 8 \\ -5 \\ \hline \end{array}$	$\begin{array}{r} 9 \\ -4 \\ \hline \end{array}$	$\begin{array}{r} 2 \\ -1 \\ \hline \end{array}$	$\begin{array}{r} 3 \\ -3 \\ \hline \end{array}$
$\begin{array}{r} 6 \\ -3 \\ \hline \end{array}$	$\begin{array}{r} 7 \\ -2 \\ \hline \end{array}$	$\begin{array}{r} 5 \\ -1 \\ \hline \end{array}$	$\begin{array}{r} 9 \\ -2 \\ \hline \end{array}$	$\begin{array}{r} 2 \\ -2 \\ \hline \end{array}$	$\begin{array}{r} 4 \\ -1 \\ \hline \end{array}$	







NO CADERNO DE TEMA

IBICARÉ, 17 DE MAIO DE 2021. **SEGUNDA-FEIRA**

Habilidade BNCC de Língua Portuguesa: EF01LP02 – EF01LP06 – EF01LP07 – EF01LP08 – EF01LP09 e EF12LP01.

1) ESCREVER A DATA NO CADERNO.

ESCREVA O NOME DA FIGURA, DEPOIS ENCONTRE AS SÍLABAS QUE FORMAM O NOME DAS FIGURAS E PINTE-AS.

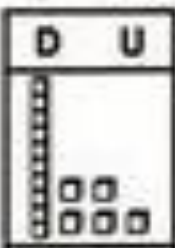


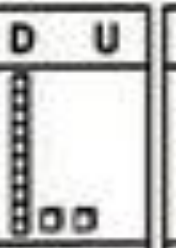
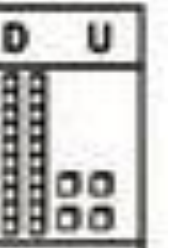
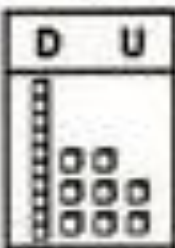
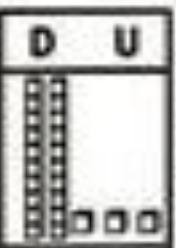
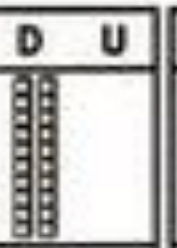

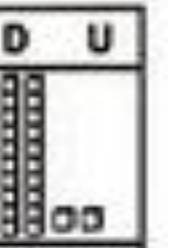
	GA CA BO GO TO		CA IO GA DO LA
_____		_____	
GA GU GO LA LO		GA GU GO LA LO	
_____		_____	
	BA GO BI GA DE DA		GA BI FI CA GO
_____		_____	

IBICARÉ, 18 DE MAIO DE 2021. **TERÇA-FEIRA**

Habilidade BNCC de Língua Portuguesa: EF01MA01

1) ESCREVER A DATA NO CADERNO.

DESCUBRA QUAIS SÃO OS NÚMEROS E ESCREVA.



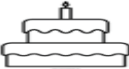





D U  15	D U 	D U 	D U 	D U 	D U 
_____	_____	_____	_____	_____	_____
D U 	D U 	D U 	D U 	D U 	D U 
_____	_____	_____	_____	_____	_____

IBICARÉ, 19 DE MAIO DE 2021. **QUARTA-FEIRA**

Habilidade BNCC de Língua Portuguesa: EF01LP06 – EF01LP07 – EF01LP08 – EF01LP09 e EF12LP01.

1) ESCREVER A DATA NO CADERNO.

PINTE AS SÍLABAS QUE FORMAM OS NOMES DOS DESENHOS.

	BA	A	TA	BA	CA	TE
	A	BA	PA	CA	DA	XI
	LA	BO	GE	LO	CO	TI
	GA	CA	BO	BA	TA	NA
	JA	PA	BO	BA	CA	NÉ
	BU	RA	ZI	GA	LI	NA
	BA	BO	TA	NE	TA	CA
	BO	RA	LA	PA	CHA	


IBICARÉ, 20 DE MAIO DE 2021. **QUINTA-FEIRA**

Habilidade BNCC de Matemática: EF01MA01 e EF01MA06.

1) ESCREVER A DATA NO CADERNO.

PINTA RESULTADO

1 Azul	3 Rosa	5 Roxo	7 Verde
2 Cinza	4 Lilás	6 Amarelo	8 Vermelho



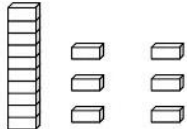
$\begin{array}{r} 9 \\ -4 \\ \hline \end{array}$	$\begin{array}{r} 2 \\ -1 \\ \hline \end{array}$	$\begin{array}{r} 8 \\ -0 \\ \hline \end{array}$	$\begin{array}{r} 7 \\ -0 \\ \hline \end{array}$		
$\begin{array}{r} 8 \\ -1 \\ \hline \end{array}$	$\begin{array}{r} 6 \\ -2 \\ \hline \end{array}$	$\begin{array}{r} 5 \\ -3 \\ \hline \end{array}$	$\begin{array}{r} 8 \\ -4 \\ \hline \end{array}$	$\begin{array}{r} 6 \\ -3 \\ \hline \end{array}$	$\begin{array}{r} 5 \\ -0 \\ \hline \end{array}$
$\begin{array}{r} 9 \\ -1 \\ \hline \end{array}$	$\begin{array}{r} 8 \\ -7 \\ \hline \end{array}$	$\begin{array}{r} 9 \\ -3 \\ \hline \end{array}$	$\begin{array}{r} 7 \\ -5 \\ \hline \end{array}$	$\begin{array}{r} 8 \\ -2 \\ \hline \end{array}$	$\begin{array}{r} 9 \\ -6 \\ \hline \end{array}$

Habilidade BNCC de Matemática: EF01MA01 e EF01MA06.

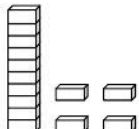
1) ESCREVER A DATA NO CADERNO.

NUMERAIS ATÉ 20

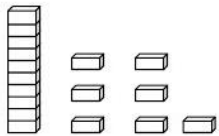
1- ESCREVA O VALOR CORRESPONDENTE:



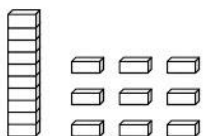
= _____



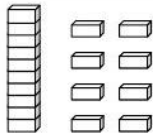
= _____



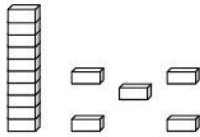
= _____



= _____



= _____



= _____

2 – CALCULE MENTALMENTE:

a) $10 + 3 =$ _____	f) $10 + 5 =$ _____
b) $10 + 1 =$ _____	g) $10 + 2 =$ _____
c) $10 + 8 =$ _____	h) $10 + 6 =$ _____
d) $10 + 4 =$ _____	i) $10 + 9 =$ _____
e) $10 + 7 =$ _____	j) $10 + 10 =$ _____

OBSERVAÇÕES

Para os alunos que não estão participando das aulas presencialmente, as atividades devem ser feitas nos cadernos, que serão conferidos pela professora quando o aluno estiver na escola. **Os alunos que fazem parte exclusivamente do ensino remoto** devem enviar foto das atividades realizadas diretamente para a professora e entregar os caderno para que sejam conferidos quando for solicitado. **Lembrando que há atividades que devem ser feitas no caderno de tema.** A Base Nacional Comum Curricular (BNCC) está disponível para download no portal da prefeitura, caso os pais e/ou responsáveis queiram consultar os códigos das habilidades que estão no planejamento. Também é possível encontrar a BNCC no link:

http://basenacionalcomum.mec.gov.br/images/BNCC_EI_EF_110518_versaofinal_site.pdf

