



ESCOLA DE EDUCAÇÃO BÁSICA MUNICIPAL MADRE LEONTINA

PROFESSORA: DAYANE VIEIRA MARTINS DOS SANTOS

ALUNO (A): \_\_\_\_\_ 2º ANO

PERÍODO DE EXECUÇÃO DAS ATIVIDADES: 17/05 A 21/05

Os alunos que fazem parte exclusivamente do ensino remoto devem enviar fotos das atividades realizadas até nas sextas-feiras. **EM CASO DE DÚVIDAS:** Meu número: **99828-3029**

### ATIVIDADES DA SEMANA

HABILIDADES: EF12LP01/EF12LP02/EF12LP08/EF02LP01/EF02LP08/EF02CI07/EF02CI08/  
EF02MA12/EF02MA14/EF02MA15

SEGUNDA-FEIRA: 17/05

### TRABALHO AVALIATIVO

MATERIAIS:

- PEDAÇO DE ISOPOR PINTADO EM PRETO (SERÁ ENTREGUE NA ESCOLA)
- MASSINHA DE MODELAR;
- FOLHA COM RETÂNGULOS PARA ESCRITA DOS NOMES DOS PLANETAS.

MODO DE FAZER: UTILIZANDO UMA CAIXA DE SAPATO, E MASSINHA DE MODELAR, OS ALUNOS CONFECCIONARÃO UM PLANETÁRIO COM O SISTEMA SOLAR. APÓS ORGANIZAREM OS PLANETAS EM ORDEM DEVERÃO RECORTAR E COLAR OS NOMES CORRETAMENTE.



- LEIA O TEXTO ABAIXO (COLE EM SEU CADERNO):

## ORIENTAÇÃO ATRAVÉS DO SOL

O HOMEM, DURANTE SÉCULOS, ORIENTOU-SE POR MEIO DA BÚSSULA EM SUAS CONQUISTAS, COM O DESENVOLVIMENTO TECNOLÓGICO, APARELHOS SOFISTICADOS COMO O POSICIONAMENTO GLOBAL POR SATÉLITE (GPS) FORNECEM NOÇÕES MAIS PRECISAS DE LUGAR.

MAS, QUANDO NÃO HAVIA APARELHOS DE LOCALIZAÇÃO, O HOMEM UTILIZAVA O SOL PARA SE ORIENTAR.

OBSERVANDO O LOCAL ONDE O SOL NASCE, TEMOS A NASCENTE OU LESTE. NESSA DIREÇÃO, COLOCAMOS O BRAÇO DIREITO. O BRAÇO ESQUERDO INDICARÁ O POENTE, ONDE O SOL MORRE, OU SEJA, O OESTE. A NOSSA FRENTE ENCONTRA-SE O NORTE E AS COSTAS O SUL.


NORTE, SUL, LESTE E OESTE SÃO CHAMADOS PONTOS CARDEAIS. A FIGURA QUE INDICA ESSES PONTOS CHAMA-SE ROSAS-DOS-VENTOS. PARA NOS ORIENTARMOS, PODEMOS USAR O SOL, A BÚSSULA, MAPAS E RELÓGIOS.

PINTE A PALAVRA **BÚSSULA** NO TEXTO DE AZUL.

ESCREVA QUAIS SÃO OS PONTOS CARDEAIS.


QUAL A FIGURA QUE INDICA OS PONTOS CARDEAIS?

O QUE PODEMOS USAR PARA NOS ORIENTAR?



OBSERVE A IMAGEM E COMPLETE AS FRASES CORRETAMENTE:

- O SOL NASCE NO \_\_\_\_\_ E SE PÕE NO \_\_\_\_\_.
- O BRAÇO DIREITO ESTÁ APONTANDO PARA O \_\_\_\_\_ E O ESQUERDO PARA O \_\_\_\_\_.
- A FRENTE DO CORPO ESTÁ O \_\_\_\_\_ E ATRÁS O \_\_\_\_\_.



TERÇA-FEIRA: 18/05

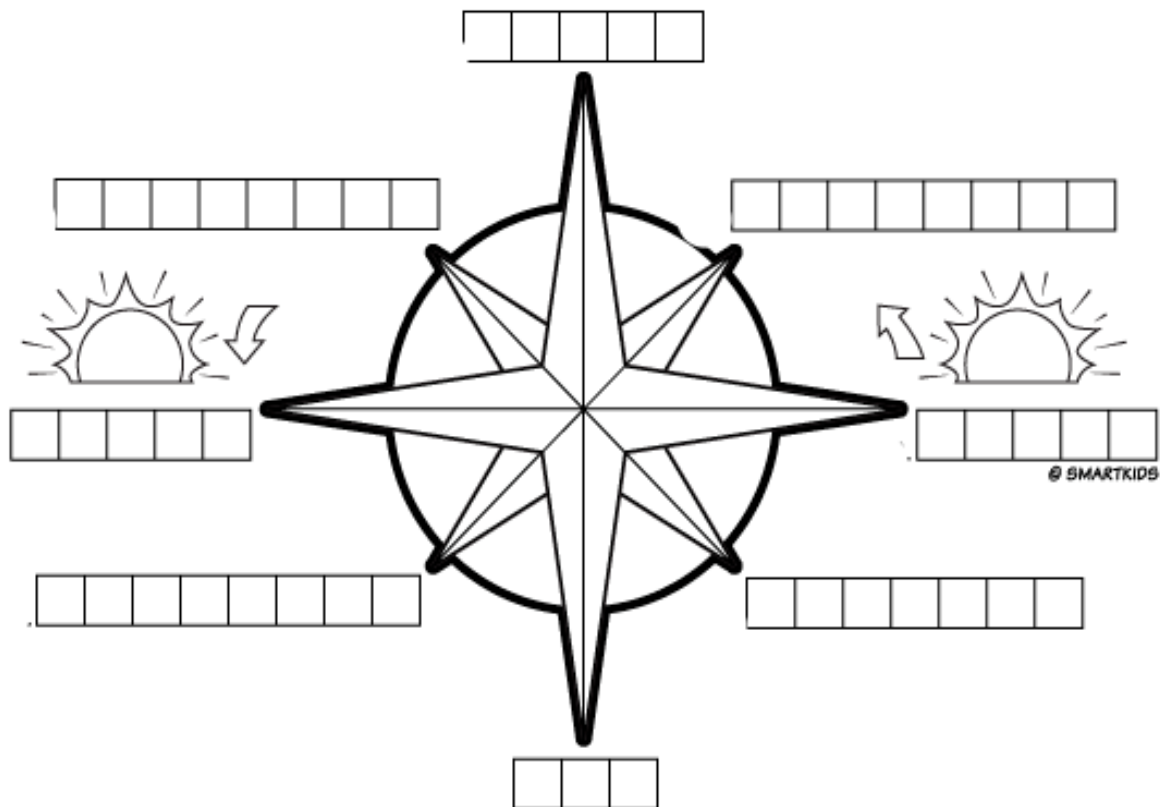
- LEIA AS INFORMAÇÕES ABAIXO (COLE EM SEU CADERNO):

### A BÚSSOLA

A BÚSSOLA É UM OBJETO UTILIZADO PARA ORIENTAÇÃO ELA TEM COMO REFERÊNCIA A ROSA DOS VENTOS QUE É COMPOSTA PELOS PONTOS CARDEAIS E COLATERAIS. É FORMADA POR UMA CAIXINHA DE MATERIAL TRANSPARENTE, CHAMADA DE CÁPSULA, DENTRO DELA EXISTE UMA PEÇA METÁLICA CHAMADA DE AGULHA. APONTANDO SEMPRE PARA O POLO NORTE MAGNÉTICO DA TERRA.

### A ROSA DOS VENTOS

PARA SE LOCALIZAR, O HOMEM USAVA A ROSA DOS VENTOS. ONDE APARECEM OS PONTOS CARDEAIS E COLATERAIS.



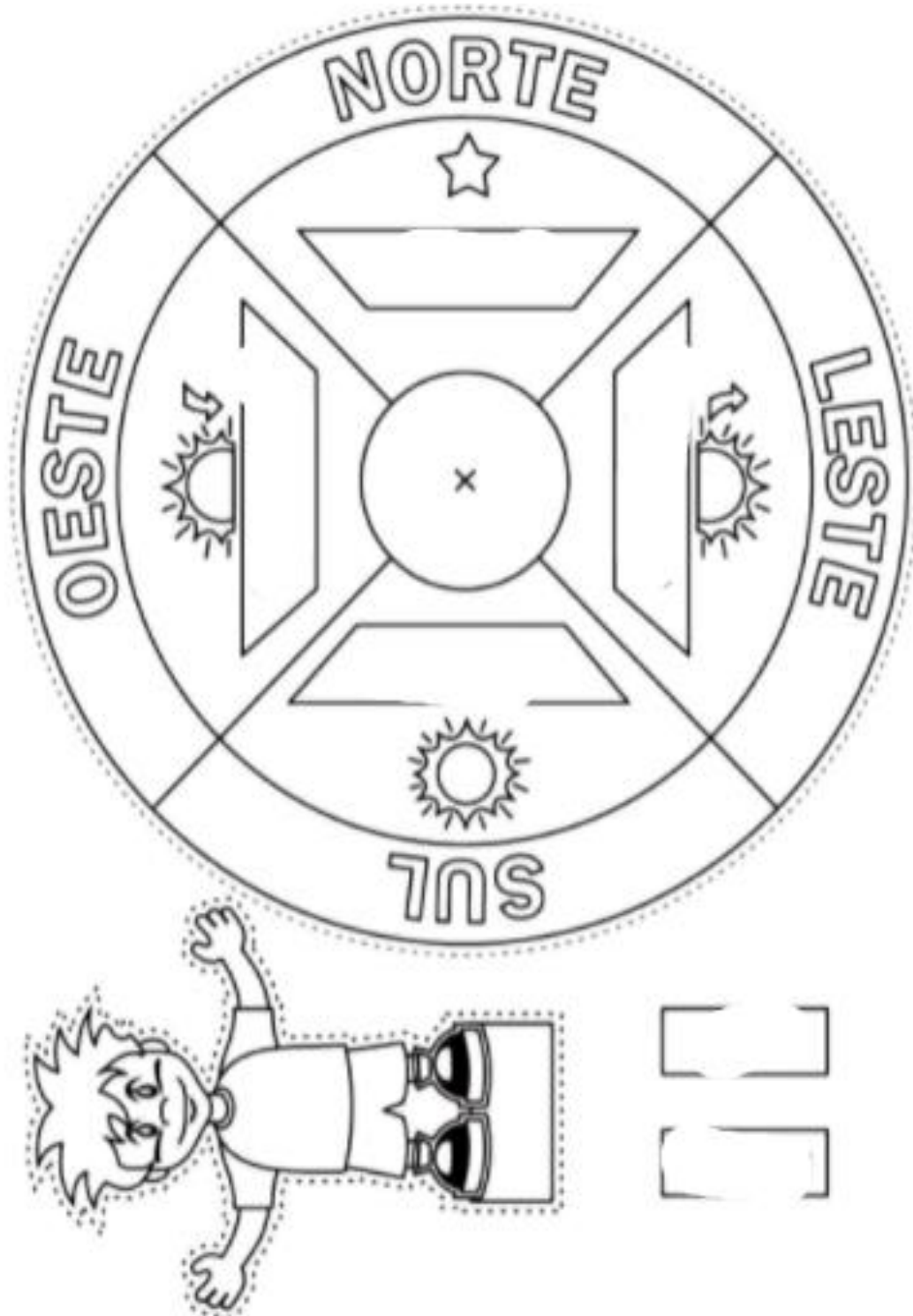
- LEVAR OS ALUNOS NA QUADRA DA ESCOLA ESTADUAL, E REALIZAR OS MOVIMENTOS PARA LOCALIZAÇÃO DE PONTOS CARDEAIS.

NOVAMENTE EM SALA:

DITADO DE PALAVRAS. A PROFESSORA IRÁ DITAR ESSAS PALAVRAS E OS ALUNOS DEVERÃO ESCREVER EM SEU CADERNO, DEPOIS SERÁ CORRIGIDO.

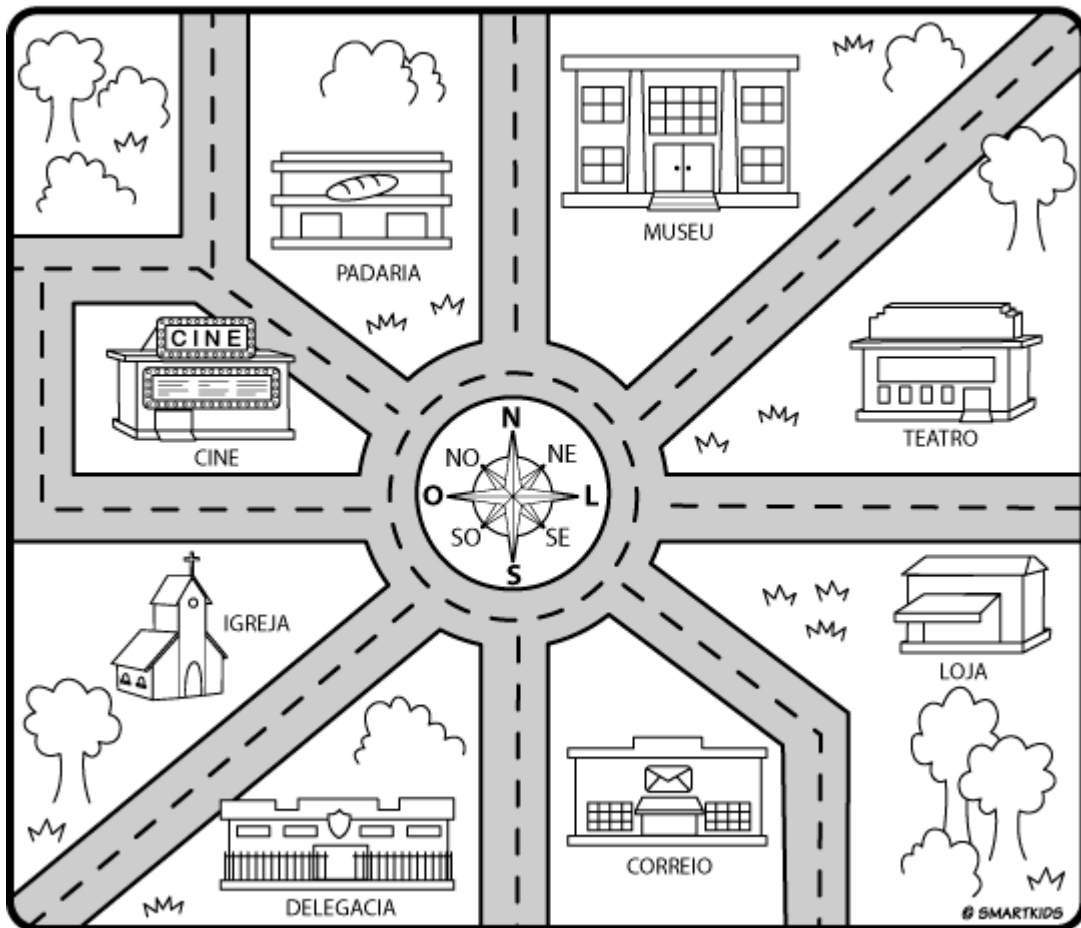
<b>SOL</b>	<b>ESTRELA</b>	<b>SUL</b>
<b>MARTE</b>	<b>TERRA</b>	<b>SATURNO</b>
<b>URANO</b>	<b>PLANETAS</b>	<b>NORTE</b>
<b>SUL</b>	<b>OESTE</b>	<b>VENTO</b>

- REALIZAR A ATIVIDADE ABAIXO:



- UTILIZANDO A ROSA DOS VENTOS, PINTE DE ACORDO COM A LEGENDA:

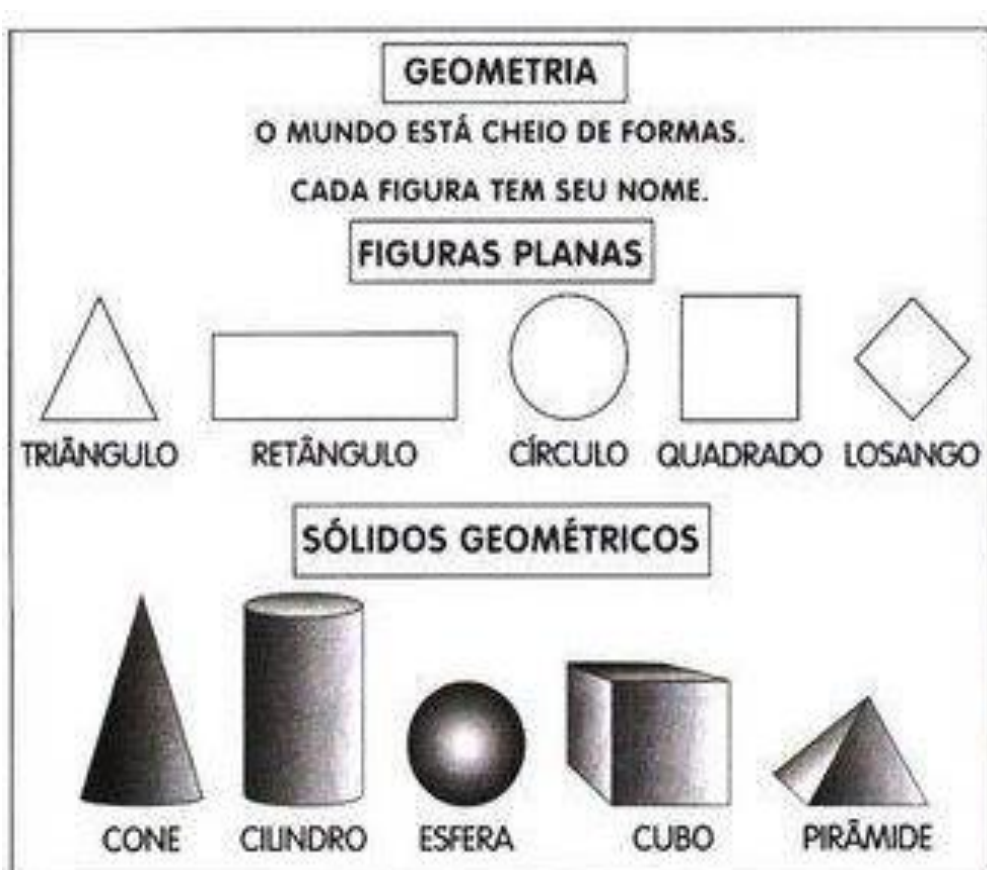




QUARTA-FEIRA: 19/05

COPIE AS INFORMAÇÕES NO CADERNO.

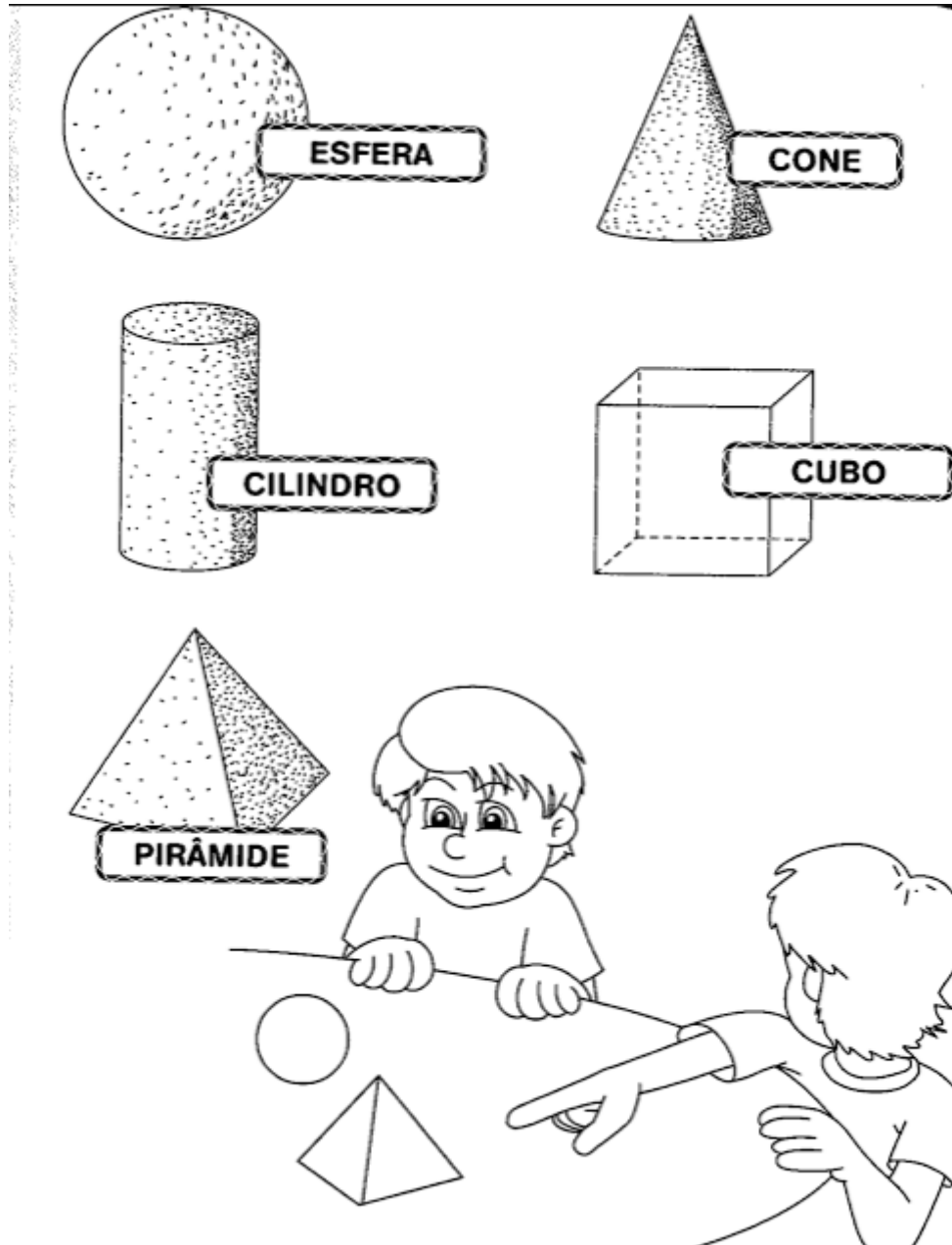
- OS PLANETAS DO SISTEMA SOLAR, POSSUEM A FORMA DE ESFERA. SÃO CORPOS REDONDOS, OU SEJA, SE COLOCADOS EM UMA SUPERFÍCIE PLANA, ROLAM.



OS SÓLIDOS GEOMÉTRICOS SÃO FIGURAS TRIDIMENSIONAIS, OU SEJA, QUE POSSUEM:

- ALTURA;
- LARGURA;
- COMPRIMENTO.

VAMOS LER AS PALAVRAS COM OS NOMES DOS SÓLIDOS GEOMÉTRICOS.



**PINTE:**  
DE AMARELO OS OBJETOS QUE TÊM A FORMA DE ESFERA  
DE AZUL OS OBJETOS QUE TÊM A FORMA DE CONE  
DE VERMELHO OS OBJETOS QUE TÊM A FORMA DE CILINDRO  
DE VERDE OS OBJETOS QUE TÊM A FORMA DE CUBO,



### FIGURAS PLANAS

AS FORMAS PLANAS SÃO REPRESENTADAS A PARTIR DE UM PLANO E POSSUEM DUAS DIMENSÕES: LARGURA E COMPRIMENTO.

COMO POR EXEMPLO:

- TRIÂNGULO;
- QUADRADO;
- RETÂNGULO;
- CÍRCULO.

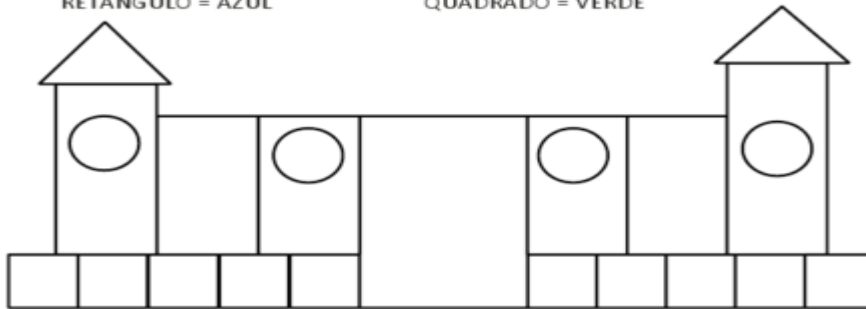


LIGUE O NOME À FIGURA GEOMÉTRICA:

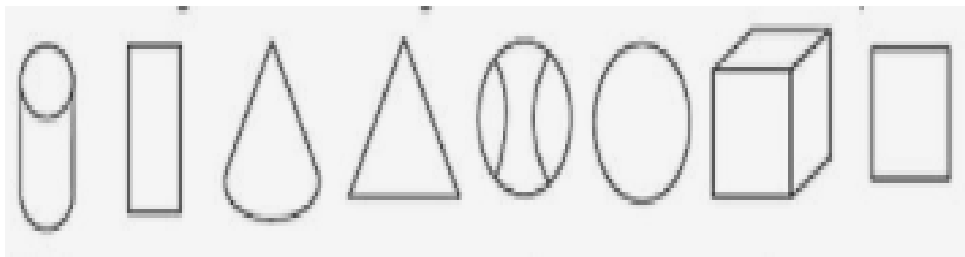
	
	
	
	

PINTE O DESENHO DE ACORDO COM A LEGENDA:

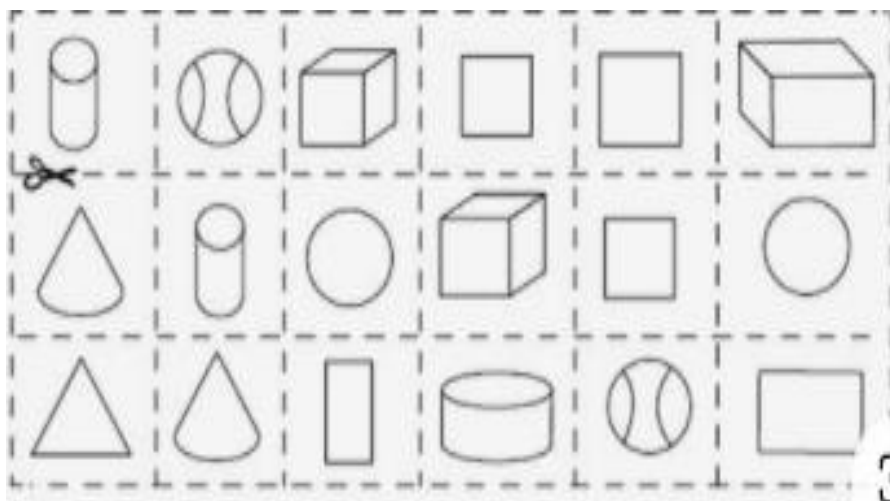
TRIÂNGULO = VERMELHO      CÍRCULO = AMARELO  
 RETÂNGULO = AZUL          QUADRADO = VERDE



ESCREVA O NOME DAS FIGURAS PLANAS E DOS SÓLIDO GEOMÉTRICOS ABAIXO:



RECORTE E COLE AS IMAGENS ABAIXO NO GRUPO CORRETO:



SÓLIDOS GEOMÉTRICOS	FIGURAS PLANAS

1 - OBSERVE A CASINHA E RESOLVA O QUE SE PEDE.



A) QUANTAS JANELAS TEM A CASINHA? ○

B) QUANTAS JANELAS TERIAM DUAS CASINHAS JUNTAS?

( ) 9      ( ) 11  
( ) 8      ( ) 10

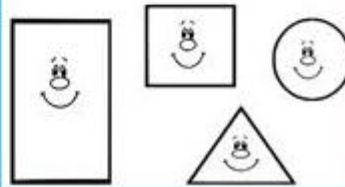
C) QUANTAS JANELAS ESTÃO DO LADO DIREITO DA PORTA? ○

D) DESENHE MAIS DUAS JANELAS. QUANTAS SÃO AGORA? ○

E) AGORA, QUAL LADO TEM MAIS JANELAS?

( ) DIREITO  
( ) ESQUERDO

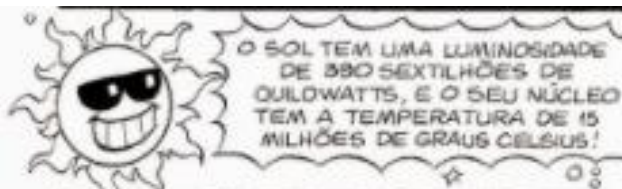
F) QUAL FORMA SE PARECE COM O TELHADO DA CASINHA? CIRCULE.



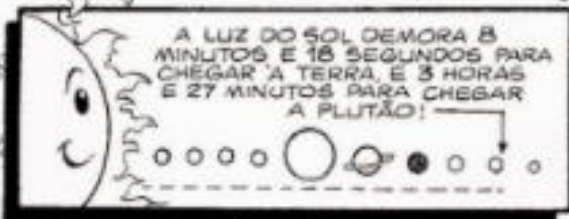
QUINTA-FEIRA: 20/05

VAMOS LER E CONHECER ALGUMAS CURIOSIDADES SOBRE O SISTEMA SOLAR;





O SOL TEM UMA LUMINOSIDADE DE 380 SEXTILHÕES DE QUILOWATTS, E O SEU NÚCLEO TEM A TEMPERATURA DE 15 MILHÕES DE GRAUS CELSIUS!



EXISTEM PLANETAS QUE SÃO CONNECIDOS DESDE A ANTIGUIDADE! POR ISSO, ELAS FORAM SENDO BATIZADOS COM NOMES DE DEUSES GRECO-ROMANOS! SOMENTE SEDNA FOGE À REGRA, POIS É O NOME DE UMA DEUSA ESQUIMO!



- MERCÚRIO - MENSAGEIRO DOS DEUSES.
- VÊNUS - DEUSA DA BELEZA E AMOR.
- JÚPITER - PAI DE TODOS OS DEUSES.
- SATURNO - DEUS DO TEMPO.
- MARTE - DEUS DA GUERRA.
- TERRA - (GAIA) DELA NASCERAM OS TITÃS.
- URANO - DEUS DOS CÉUS.
- NETUNO - DEUS DOS MARES.
- PLUTÃO - DEUS DOS INFERNOS.
- SEDNA - DEUSA DOS OCEANOS.




NA ASTROLOGIA, OS SÍMBOLOS ASTROLÓGICOS NÃO REPRESENTAM OS SIGNOS, MAS TAMBÉM OS PLANETAS! VAMOS CONHECÊ-LOS?

SOL	LUA	MERCÚRIO	VÊNUS
MARTE	JÚPITER	SATURNO	URANO
NETUNO	PLUTÃO	TERRA	

**VAMOS TROCAR OS NÚMEROS PELAS SÍLABAS CORRESPONDENTES E VER OS NOMES DE ALGUNS PLANETAS E SUAS CARACTERÍSTICAS?**

- A) PLANETA MAIS DISTANTE DA NOSSA GALÁXIA: 3 + 7 \_\_\_\_\_
- B) SEU SOLO É RICO EM FERRO: 4 + 6 \_\_\_\_\_
- C) OS ANÉIS DESTA PLANETA SÃO FORMADOS POR BILHÕES DE PEDAÇOS DE GELO E OUTRAS PARTÍCULAS: 5 + 2 + 9 \_\_\_\_\_
- D) PLANETA QUE GIRA DEITADO: 1 + 8 + 9 \_\_\_\_\_

1 U	2 TUR	3 PLU
4 MAR	5 SA	6 TE
7 TÃO	8 RA	
9 NO		



SEXTA-FEIRA: 21/05

VAMOS REALIZAR UM SIMULADO DA PROVINHA DA OBA, E TESTAR NOSSOS CONHECIMENTOS.

LINK DA PROVA:

[http://www.oba.org.br/sisglob/sisglob\\_arquivos/2019/OBA2019\\_CARTA\\_E\\_PROVA\\_NIVEL\\_1.pdf](http://www.oba.org.br/sisglob/sisglob_arquivos/2019/OBA2019_CARTA_E_PROVA_NIVEL_1.pdf)

## SIMULADO!

REALIZAR A TIVIDADE ABAIXO:

**QUE TAL RESOLVER O JOGO ABAIXO?**

- 1) PERSONAGEM DE MAURICIO DE SOUSA QUE VIVE NO ESPAÇO.
- 2) UMA DAS LUAS DE JÚPITER.
- 3) INSTRUMENTO PARA OBSERVAR AS ESTRELAS.
- 4) PLANETA FORMADO POR GÁS METANO, HIDROGÊNIO E HÉLIO.
- 5) CORPO CELESTE LUMINOSO.
- 6) CONHECIDO COMO PLANETA VERMELHO.
- 7) NOME DADO À TERRA, SEGUNDO A MITOLOGIA.
- 8) PLANETA QUE GIRA PARA TRÁS.
- 9) GÁS ENCONTRADO NO PLANETA TERRA.
- 10) SATÉLITE DA TERRA.
- 11) GALILEU -----, FAMOSO ASTRÔNOMO ITALIANO.
- 12) PEQUENO CORPO CELESTE.

MAURICIO