



ESCOLA DE EDUCAÇÃO BÁSICA MUNICIPAL MADRE LEONTINA

PROFESSORA: DAYANE VIEIRA MARTINS DOS SANTOS

ALUNO (A): \_\_\_\_\_ 2º ANO

PERIODO DE EXECUÇÃO DAS ATIVIDADES: 07/06 a 11/06/2021

Os alunos que fazem parte exclusivamente do ensino remoto devem enviar fotos das atividades realizadas até nas sextas-feiras. **EM CASO DE DÚVIDAS:** Meu número: **99828-3029**

### ATIVIDADES DA SEMANA

**HABILIDADES: EF02HI05 – EF02LP01 – EFMA05**

SEGUNDA-FEIRA: 07/06

- CADA UM DE NÓS TEM SUA HISTÓRIA, VAMOS CONHECER UM POUCO MAIS DE CADA UM.

**DE ONDE EU VENHO**

CADA UM TEM UMA HISTÓRIA. CADA PESSOA É ÚNICA E TRAZ CONSIGO UMA HISTÓRIA DIFERENTE. ALÉM DA NOSSA HISTÓRIA, TODOS NÓS POSSUÍMOS INFORMAÇÕES PESSOAIS QUE SÃO REGISTRADAS EM DOCUMENTOS.



O PRIMEIRO DOCUMENTO QUE TEMOS É A CERTIDÃO DE NASCIMENTO. NELA ESTÃO NOSSO NOME, DATA E LOCAL DE NASCIMENTO, O NOME DE NOSSOS PAIS, A NACIONALIDADE E OUTRAS INFORMAÇÕES IMPORTANTES. ELA É EMITIDA LOGO DEPOIS QUE NASCEMOS.

- COPIAR AS INFORMAÇÕES NO CADERNO:

OS DOCUMENTOS SÃO IMPORTANTES, POIS SERVEM PARA IDENTIFICAR AS PESSOAS. AO NASCER TEMOS A CERTIDÃO DE NASCIMENTO E CONFORME CRESCEMOS É NECESSÁRIO FAZERMOS NOSSA IDENTIDADE. NOSSA IDENTIDADE NÃO É SOMENTE FEITA ATRAVÉS DOS DOCUMENTOS QUE CARREGAM NOSSAS INFORMAÇÕES, MAS SIM A FORMA COMO CADA PESSOA SE PERCEBE, SE VÊ DIANTE DO MUNDO.

- VAMOS PREENCHER NOSSA IDENTIDADE, COM OS DADOS PESSOAIS.

REPÚBLICA FEDERATIVA do \_\_\_\_\_  
SECRETARIA DE SEGURANÇA PÚBLICA  
- INSTITUTO DE IDENTIFICAÇÃO

POLEGAR DIREITO	SEU DESENHO
-----------------	-------------

\_\_\_\_\_  
ASSINATURA DO TITULAR  
CARTEIRA DE IDENTIDADE

---

VÁLIDA EM TODO O TERRITÓRIO NACIONAL

NOME: \_\_\_\_\_

FILIAÇÃO: \_\_\_\_\_

MÃE: \_\_\_\_\_

PAI: \_\_\_\_\_

NATURALIDADE: \_\_\_\_\_

DATA DE NASCIMENTO: \_\_\_\_ / \_\_\_\_ / \_\_\_\_

CPF: \_\_\_\_\_  
(SE TIVER)

- NO CADERNO DE AVALIAÇÕES, FAÇA A ATIVIDADE A SEGUIR.

FALE UM POUCO SOBRE VOCÊ, ESCRIVENDO E DESENHANDO O QUE ESTÁ SENDO PEDIDO.

**QUEM SOU EU?**  
MEU NOME É \_\_\_\_\_

\_\_\_\_\_

TENHO  ANOS



COMIDA FAVORITA



COR FAVORITA



MINHA FAMÍLIA



EU SOU MUITO \_\_\_\_\_



LEIA ATENTAMENTE O POEMA.

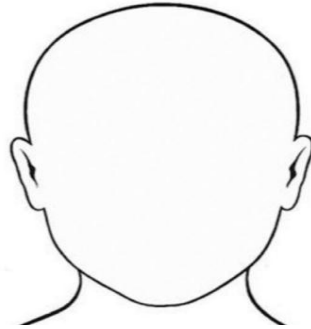


# EU SOU GENTE



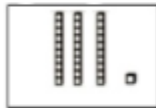
AS PESSOAS SE PARECEM,  
TEM GENTE QUE É QUASE IGUAL...  
MAS CADA UM TEM O SEU JEITO,  
QUE É O QUE FAZ TANTA GENTE SER,  
AO MESMO TEMPO,  
TÃO IGUAL E TÃO DIFERENTE!

AGORA, COMPLETE COMO VOCÊ É:

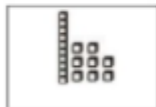


- UM POUCO DE MATEMÁTICA!


); DESCUBRA O NÚMERO E ESCREVA O SEU NOME



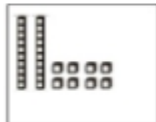
\_\_\_\_\_




\_\_\_\_\_



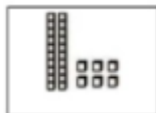
\_\_\_\_\_



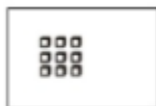
\_\_\_\_\_



\_\_\_\_\_



\_\_\_\_\_



\_\_\_\_\_

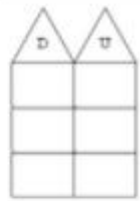
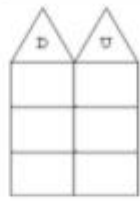
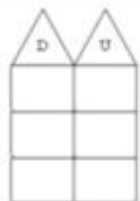
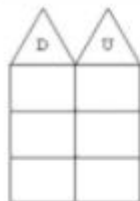
↪ QUEM SOU EU?

- A) 1 DEZENA E 5 UNIDADES, SOU O
- B) 1 DEZENA E 3 UNIDADES, SOU O
- C) 2 DEZENAS E 8 UNIDADES, SOU O
- D) 2 DEZENAS E 0 UNIDADES, SOU O
- E) 1 DEZENA E 2 UNIDADES, SOU O

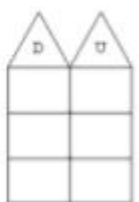
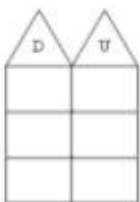
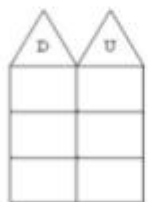
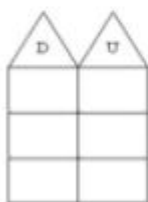


QUESTÃO 8: RESOLVA AS OPERAÇÕES:

$25 + 12 =$        $13 + 24 =$        $24 - 11 =$        $54 - 23 =$



$15 + 1 =$        $43 + 2 =$        $14 - 3 =$        $54 - 3 =$



NASCEMOS E FAZEMOS PARTE DE UM GRUPO DE PESSOAS, CHAMADO FAMÍLIA. COM ELA APRENDEMOS MUITAS COISAS IMPORTANTES SOBRE A VIDA.

- VAMOS CONHECER UM POUCO DAS FAMÍLIAS DE CADA UM.

**MINHA FAMÍLIA É ASSIM...**

AS FAMÍLIAS NÃO SÃO TODAS IGUAIS. UMAS SÃO MAIS NUMEROSAS, OUTRAS SÃO BEM PEQUENAS. ALGUNS PAIS MORAM EM CASAS SEPARADAS. ALGUMAS CRIANÇAS MORAM COM OS AVÓS...

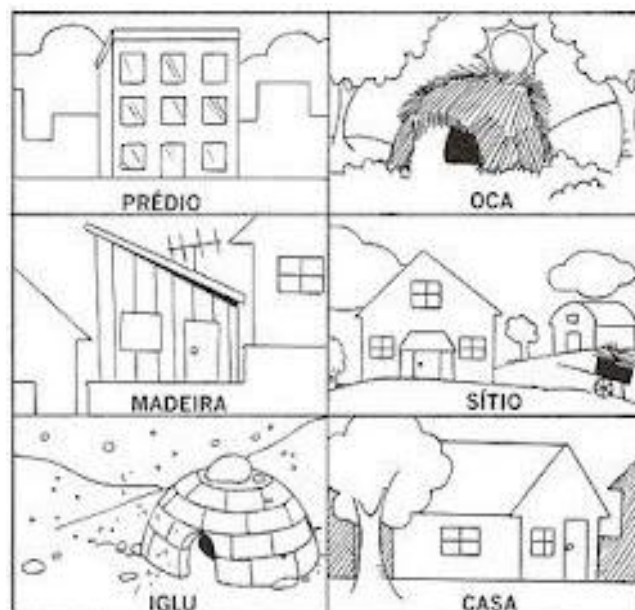
• DESENHE, DENTRO DA CASA, AS PESSOAS QUE MORAM COM VOCÊ.

**AQUI MORA UMA FAMÍLIA FELIZ!**

AGORA VOCÊ DEVERÁ DESCREVER COMO É SUA CASA, AS CARACTERÍSTICAS COMO A COR, NÚMERO DE CÔMODOS.

### FAMÍLIAS E MORADIAS

TODAS AS FAMÍLIAS PRECISAM DE UMA CASA PARA MORAR. GRANDE OU PEQUENA, DE MADEIRA OU CIMENTO E TIJOLOS. PINTE A MORADIA QUE É A MAIS PARECIDA COM A SUA.



→ QUEM SOU EU?

- A) 1 DEZENA E 5 UNIDADES, SOU O
- B) 1 DEZENA E 3 UNIDADES, SOU O
- C) 2 DEZENAS E 8 UNIDADES, SOU O
- D) 2 DEZENAS E 0 UNIDADES, SOU O
- E) 1 DEZENA E 2 UNIDADES, SOU O



QUESTÃO 8: RESOLVA AS OPERAÇÕES:

$25 + 12 =$	$13 + 24 =$	$24 - 11 =$	$54 - 23 =$
$15 + 1 =$	$43 + 2 =$	$14 - 3 =$	$54 - 3 =$


QUARTA-FEIRA: 09/06

### TIPOS DE MORADIA

- COPIAR AS INFORMAÇÕES NO CADERNO E A CADA MORADIA, COLORIR, RECORTAR E COLAR ABAIXO DA DESCRIÇÃO CORRETA.

EXISTEM VÁRIOS TIPOS DE MORADIAS;

- ALVENARIA: SÃO CASAS FEITAS DE TIJOLOS, AREIA E CIMENTO.
- PALAFITAS: SÃO CASAS CONSTRUÍDAS DE TÁBUAS, DENTRO DE RIOS.
- IGLU: SÃO CASAS PRÓPRIAS PARA SOBREVIVENCIA NO GELO.
- CASA ORIENTAL: TÍPICA CONSTRUÇÃO DE PAÍSES DO ORIENTE.
- OCAS: SÃO FEITAS DE TAQUARAS, CAPIM. A CASA DOS ÍNDIOS.
- CASTELO: ENORMES CONSTRUÇÕES, COM GRANDES TORRES, ONDE MORAM AS RAINHAS.
- TENDAS: ABRIGOS DESMONTÁVEIS FEITOS DE TECIDO RESISTENTE. COMO BARRACAS DE FEIRA.
- PRÉDIOS: EDIFÍCIOS DE VÁRIOS ANDARES.



REPRESENTE CADA NÚMERO COM O MATERIAL DOURADO CORRESPONDENTE:

DEZENAS	UNIDADES	DEZENAS	UNIDADES	DEZENAS	UNIDADES	DEZENAS	UNIDADES
---------	----------	---------	----------	---------	----------	---------	----------

**12**

**16**

**19**

**14**

DEZENAS	UNIDADES	DEZENAS	UNIDADES	DEZENAS	UNIDADES	DEZENAS	UNIDADES
---------	----------	---------	----------	---------	----------	---------	----------

**17**

**11**

**15**

**13**



COPIAR O POEMA NO CADERNO PARA REALIZAÇÃO DAS ATIVIDADES A SEGUIR.

**A CASA E SEU DONO**


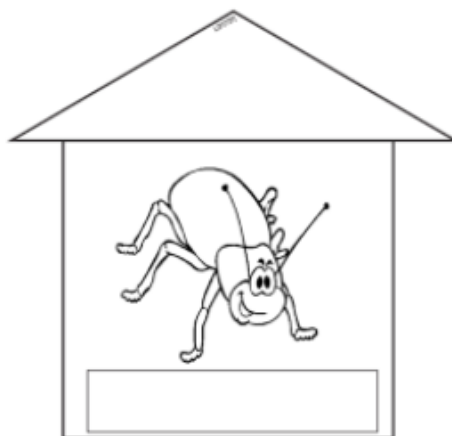
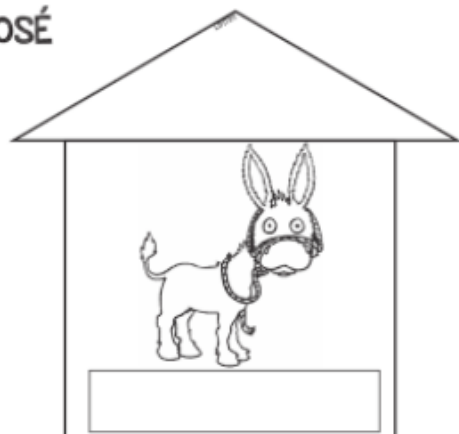

ESSA CASA É DE CACO  
QUEM MORA NELA É O MACACO.  
ESSA CASA TÃO BONITA  
QUEM MORA NELA É A CABRITA.  
ESSA CASA DE CIMENTO  
QUEM MORA NELA É O JUMENTO.  
ESSA CASA É DE TELHA  
QUEM MORA NELA É A ABELHA.  
ESSA CASA É DE LATA  
QUEM MORA NELA É A BARATA.  
ESSA CASA É ELEGANTE  
QUEM MORA NELA É O ELEFANTE.  
E DESCOBRI DE REPENTE  
QUE NÃO FALEI EM CASA DE GENTE.

ELIAS JOSÉ

- COLORIR OS DESENHOS E COM BASE NO POEMA COLOCAR CADA MORADOR NA CASA CORRETA.

**A CASA E SEU DONO**

ELIAS JOSÉ



E DESCOBRI DE REPENTE  
QUE NÃO FALEI EM CASA DE GENTE.

- ESCREVER O NOME DO MORADOR EMBAIXO DE CADA FICHA.



ESSA CASA É TÃO BONITA  
QUE MORA NELA É A...

ESSA CASA É DE CIMENTO  
QUEM MORA NELA É O...


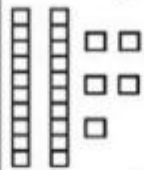

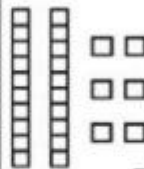

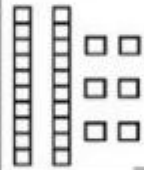

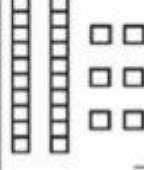


ESSA CASA É DE CACO  
QUEM MORA NELA É O

ESSA CASA É DE TELHA  
QUEM MORA NELA É A...

ESSA CASA É DE LATA  
QUEM MORA NELA É A...

ESSA CASA É ELEGANTE  
QUEM MORA NELA É O...

Siga o exemplo:

 <table border="1" data-bbox="630 952 742 1041"><tr><td>D</td><td>U</td></tr><tr><td>2</td><td>0</td></tr></table> $20 + 0 = 20$	D	U	2	0	 <table border="1" data-bbox="1013 952 1125 1041"><tr><td>D</td><td>U</td></tr><tr><td></td><td></td></tr></table> ___ + ___ = ___	D	U		
D	U								
2	0								
D	U								
 <table border="1" data-bbox="630 1153 742 1243"><tr><td>D</td><td>U</td></tr><tr><td></td><td></td></tr></table> ___ + ___ = ___	D	U			 <table border="1" data-bbox="1013 1153 1125 1243"><tr><td>D</td><td>U</td></tr><tr><td></td><td></td></tr></table> ___ + ___ = ___	D	U		
D	U								
D	U								
 <table border="1" data-bbox="630 1355 742 1444"><tr><td>D</td><td>U</td></tr><tr><td></td><td></td></tr></table> ___ + ___ = ___	D	U			 <table border="1" data-bbox="1013 1355 1125 1444"><tr><td>D</td><td>U</td></tr><tr><td></td><td></td></tr></table> ___ + ___ = ___	D	U		
D	U								
D	U								
 <table border="1" data-bbox="630 1556 742 1646"><tr><td>D</td><td>U</td></tr><tr><td></td><td></td></tr></table> ___ + ___ = ___	D	U			 <table border="1" data-bbox="1013 1556 1125 1646"><tr><td>D</td><td>U</td></tr><tr><td></td><td></td></tr></table> ___ + ___ = ___	D	U		
D	U								
D	U								
 <table border="1" data-bbox="630 1758 742 1848"><tr><td>D</td><td>U</td></tr><tr><td></td><td></td></tr></table> ___ + ___ = ___	D	U			 <table border="1" data-bbox="1013 1758 1125 1848"><tr><td>D</td><td>U</td></tr><tr><td></td><td></td></tr></table> ___ + ___ = ___	D	U		
D	U								
D	U								

ESCREVA POR EXTENSO OS NÚMEROS FORMADOS:


SEXTA-FEIRA: 11/06

- FAÇA O QUE PEDE:

➔ **DESCUBRA QUAIS SÃO OS NÚMEROS E ESCREVA:**

D U 10 5 15	D U 10 3 13	D U 10 4 14	D U 10 2 12	D U 10 0 10	D U 10 5 15
D U 10 3 13	D U 10 4 14	D U 10 2 12	D U 10 0 10	D U 10 5 15	D U 10 3 13

➔ **QUEM SOU EU?**

- A) 1 DEZENA E 5 UNIDADES, SOU O
- B) 1 DEZENA E 3 UNIDADES, SOU O
- C) 2 DEZENAS E 8 UNIDADES, SOU O
- D) 2 DEZENAS E 0 UNIDADES, SOU O
- E) 1 DEZENA E 2 UNIDADES, SOU O



➔ **EU COMEÇO, VOCÊ CONTINUA:**

20 - 21
30
40

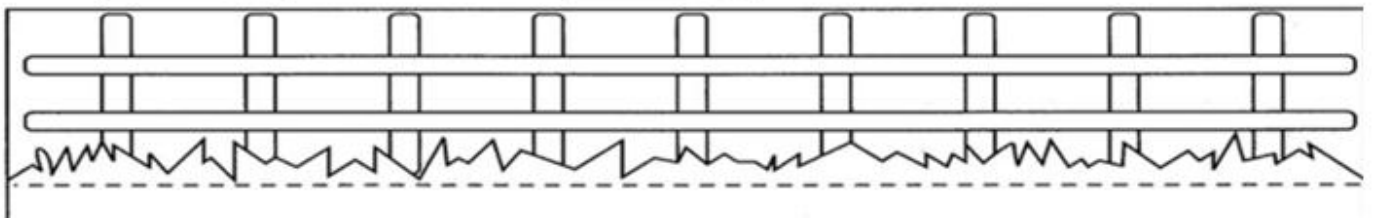
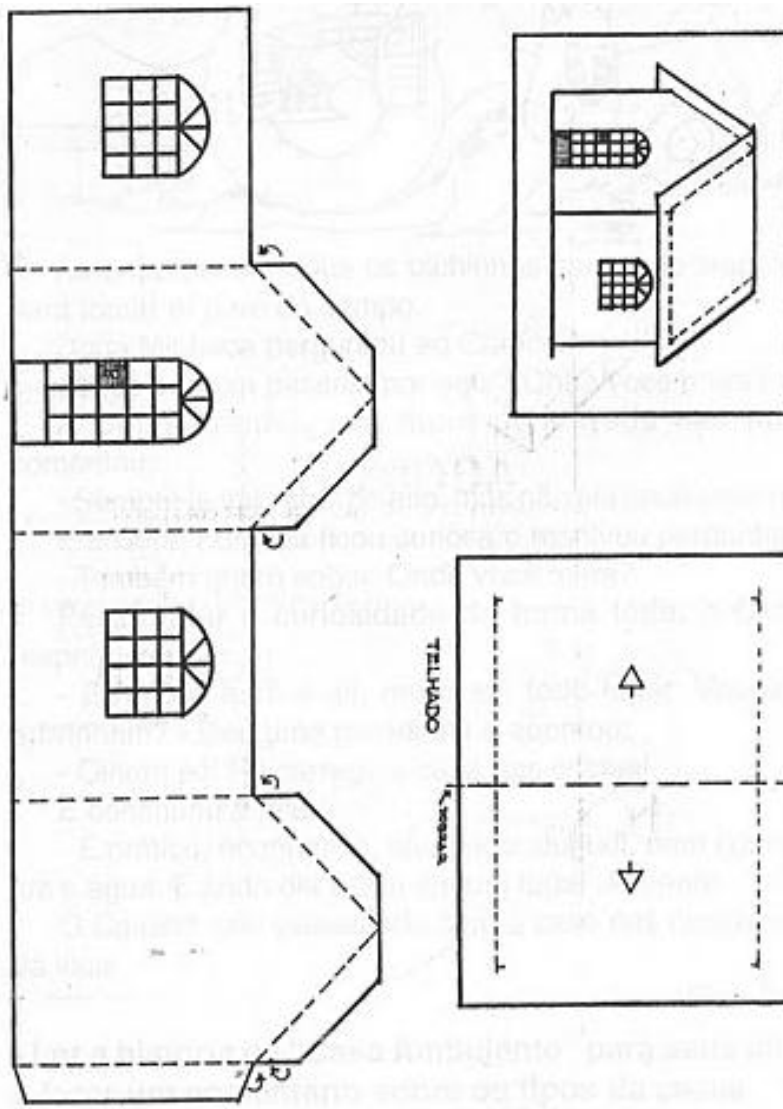
**ATRAVÉS DAS REPRESENTAÇÕES, DESCUBRA AS QUANTIDADES:**

10 5 15	10 3 13	10 4 14	10 2 12	10 0 10	10 5 15
10 3 13	10 4 14	10 2 12	10 0 10	10 5 15	10 3 13
10 3 13	10 4 14	10 2 12	10 0 10	10 5 15	10 3 13

➔ **DESCUBRA OS NÚMEROS, NAS REPRESENTAÇÕES ESCREVA-OS E COMPLETE AS UNIDADES:**

10 0 10	10 0 10	10 0 10
10 0 10	10 0 10	10 0 10
10 0 10	10 0 10	10 0 10

- QUE TAL MONTARMOS UMA PEQUENA MAQUETE?
- PINTE OS DESENHOS COMO VOCÊ PREFERIR.



- AGORA VAMOS ESCREVER UMA PEQUENA HISTÓRIA DE QUEM MORA NESSA CASA.


**Aula de leitura:**

Os alunos terão várias opções de livros para escolher em sala de aula. Cada um escolherá um ou mais para fazer a leitura.



Abrços

Professora:

Dayane

Atendente: Bruna

Estagiária: Kely