



ESCOLA DE EDUCAÇÃO BÁSICA MUNICIPAL MADRE LEONTINA


PROFESSORA: DAYANE VIEIRA MARTINS DOS SANTOS

ALUNO (A): \_\_\_\_\_ 2º ANO

DATA: \_\_\_/08/2021

### AVALIAÇÃO DE MATEMÁTICA

1) ARME AS OPERAÇÕES, OBSERVE O SINAL E RESOLVA: (4,0 PONTOS OU 0,5 CADA)




D	U

D	U

D	U

D	U



D	U

D	U


D	U

D	U



2) CIRCULE O NÚMERO INDICADO: (2,0 PONTOS OU 0,25 CADA)

VINTE E QUATRO	24	204	4
TRINTA E SEIS	306	36	6
QUARENTA E DOIS	52	32	42
CINQUENTA E TRÊS	53	530	32
SESSENTA E CINCO	45	65	78
SETENTA E NOVE	32	709	79
OITENTA	80	8	98
NOVENTA E OITO	908	98	23



3) COLOQUE OS NÚMEROS EM ORDEM CRESCENTE: (2,0 PONTOS OU 0,25 CADA)





63	27	95	32
----	----	----	----


--	--	--	--


46	59	74	93
----	----	----	----



--	--	--	--





4) COLOQUE OS NÚMEROS EM ORDEM DECRESCENTE: (2,0 PONTOS OU 0,25 CADA)





82	23	91	47
----	----	----	----


--	--	--	--

75	17	38	29
----	----	----	----

--	--	--	--



BOA AVALIAÇÃO!

PROFESSORA: DAYANE