



Escola de Educação Básica Municipal Madre Leontina

Professora: Maria Salete Ferronato

Aluno: _____ 5º ano

Planejamento para a semana de 09/08 a 13/08/2021



A partir de agora este será o horário fixo até o final do ano, por isso peço a ajuda de vocês, pais para que ajudem os seus filhos trazer o material certo para a sala de aula.

5º ANO - MATUTINO

HORA	SEGUNDA	TERÇA	QUARTA	QUINTA	SEXTA
7h30 às 8h15min	Português	Ed. Física	Informática	História	Geografia
8h15 às 9h	Ed. Física	Matemática	Ciências	História	Geografia
9h às 9h45min	Português	Matemática	Ciências	Leitura	Música
9h45 às 10h					
1h às 10h45min	Português	Matemática	Arte	Inglês	Geografia
10h45 às 11h30min	Português	Matemática	Ens. Religioso	Ed. Física	Parque ou*

*Leitura oral, escrita ou leitura direcionada.

5º ANO - VESPERTINO

HORA	SEGUNDA	TERÇA	QUARTA	QUINTA	SEXTA
13h15 às 14h	Ed. Física	Matemática	Ciências	História	Geografia
14h às 14h45min	Português	Ed. Física	Ciências	Inglês	Música
14h45 às 15h30min	Português	Matemática	Informática	Ed. Física	Geografia
15h30 às 15h45min					
14h45 às 16h30min	Português	Matemática	Arte	História	Geografia
16h30 às 17h15min	Português	Matemática	E. Religioso	Leitura	Parque ou*

*Leitura oral, escrita ou leitura direcionada.

SEGUNDA-FEIRA- 09/08- LÍNGUA PORTUGUESA

COPIE O SIGNIFICADO DE CRÔNICA ABAIXO:

A **crônica** é um gênero textual caracterizado por textos curtos, de linguagem simples e que retrata os aspectos da vida cotidiana, geralmente com toques de humor ou ironia. Esses textos relatavam de maneira cronológica grandes acontecimentos, como conquistas territoriais e as grandes descobertas.

LIVRO DE LÍNGUA PORTUGUESA:

PÁGINAS 40 A 41- LER A CRÔNICA “COMUNICAÇÃO”.

PÁGINAS 44 E 45 – FAZER TODOS OS EXERCÍCIOS.

LEIA O TEXTO ABAIXO:

Salário Mínimo - JÔ SOARES

O salário mínimo é tão pequenininho que cabe até no meu bolso. É por isso que ele é chamado de mínimo que quer dizer que menor não tem. Meu pai diz que o salário mínimo é um dinheiro que não serve pra nada, mas na televisão o moço disse que só pode ser isso mesmo, e está acabado. Meu pai quase quebrou a televisão depois que o moço falou. Meu pai anda chamando o salário mínimo de um outro nome, mas eu não vou dizer aqui, porque outro dia eu disse esse nome no recreio e a professora me deixou de castigo. O salário mínimo deve ser muito engraçado porque quando falaram que ele tinha aumentado, lá em casa todo mundo deu risada. Meu pai disse que uma vez um homem que era presidente falou que se ganhasse salário mínimo dava um tiro na cabeça, mas eu acho que ele estava brincando, porque quem ganha salário mínimo não tem dinheiro pra comprar revólver. O meu pai não ganha salário mínimo mas com o que ele ganha também não dá pra comprar muitos revólveres a não ser de brinquedo e só de vez em quando. O meu avô é aposentado. Ele não faz nada mas parece que já fez. Ouvi dizer que o salário mínimo não aumentou mais por causa dele. Eu não sabia que o meu avô era tão importante. Minha avó não é aposentada. Também, ela é muito velhinha, não dá pra ser mais nada. Lá em casa falaram que com esse salário mínimo não vai dar mais pra comprar a cesta básica. Eu não sei muito bem o que é a cesta básica, mas parece que tem comida dentro. Se for, é só diminuir bastante o tamanho da cesta que aí cabe tudo. Ouvi meu tio desempregado dizendo que tem um livro chamado Constituição, onde está escrito que com o salário mínimo a pessoa tem que comer, morar numa casa, andar de condução, se vestir e uma porção de coisas. Coitado do meu tio. A falta de emprego está deixando ele doidinho.

Quando eu crescer não vou querer salário mínimo, mesmo que seja o dobro. Parece que ele é tão pequeno que mesmo que seja o dobro do dobro ele continua mínimo. A minha mesada é muito pequena, mas inda bem que ninguém inventou a mesada mínima,

porque com o que minha mãe me dá quase não dá pra comprar figurinha. Pronto. Isso é o que penso do tal salário mínimo. Espero que a professora dê uma boa nota porque ela é muito boazinha e merece ganhar muito mais do que todos os salários mínimos juntos.

Só mais uma coisa: se eu fosse presidente da República mudava o salário mínimo para um salário bem grande e chamava ele de salário máximo.

Texto de Jô Soares, de 1996

ATIVIDADES

- 1) **QUEM ESCREVEU O TEXTO?**
- 2) **EM QUE ANO?**
- 3) **LENDO O TEXTO, QUE IDADE VOCÊ ACHA QUE A CRIANÇA TEM? POR QUÊ?**
- 4) **O QUE ELE FALA SOBRE O SALÁRIO MÍNIMO NO PRIMEIRO PARÁGRAFO?**
- 5) **O QUE DIZ O PAI DA CRIANÇA SOBRE O SALARIO MÍNIMO?**
- 6) **O QUE O PAI DELE FEZ COM A TELEVISÃO?**
- 7) **O PAI DO MENINO GANHA SALÁRIO MÍNIMO?**
- 8) **POR CAUSA DE QUEM O GAROTO OUVIU DIZER QUE AUMENTOU O SALÁRIO MÍNIMO?**
- 9) **O QUE ESTÁ ESCRITO NA CONSTITUIÇÃO SEGUNDO O TIO DA CRIANÇA?**
- 10) **O QUE ELE FAZ COM A SUA MESADA?**
- 11) **O QUE ELE ESPERA QUE A PROFESSORA FAÇA?**
- 12) **FAÇA FRASES COM AS PALAVRAS ABAIXO:**
 - a) **CONSTITUIÇÃO**
 - b) **SALÁRIO**
 - c) **DINHEIRO**
 - d) **CASTIGO**
 - e) **EMPREGO**
 - f) **TRABALHO**
 - g) **COMIDA**
 - h) **CONDUÇÃO**
 - i) **MORADIA**
 - j) **MESADA**

TEMA:

FAÇA UM TEXTO COM O TÍTULO “SALÁRIO MÍNIMO” (CONVERSE COM OS SEUS PAIS SOBRE ESSE ASSUNTO ANTES DE PRODUZIR ESTE TEXTO).

TERÇA-FEIRA-10/08- MATEMÁTICA

LIVRO DE MATEMÁTICA.

PÁGINA 162 A 172.

VAMOS TRABALHAR PORCENTAGEM.



Porcentagem, representada pelo símbolo %, é a divisão de um número qualquer por 100. A expressão 25%, por exemplo, significa que 25 partes de um todo foram divididas em 100 partes.

Há três formas de representar uma porcentagem: **forma percentual**, **forma fracionária** e **forma decimal**. O cálculo do valor representado por uma porcentagem geralmente é feito a partir de uma [multiplicação de frações](#) ou de números decimais, por isso o domínio das quatro operações é fundamental para a compreensão de como calcular corretamente uma porcentagem.

- **Forma percentual**

A representação na forma percentual ocorre quando o número é seguido do símbolo % (por cento).

Exemplos:

5%

0,1%

150%

- **Forma fracionária**

Para realização de cálculos, uma das formas possíveis de representação de uma porcentagem é a forma fracionária, que pode ser uma fração irredutível ou uma simples [fração](#) sobre o número 100.

Exemplo:

$$25\% = \frac{25}{100} \rightarrow \frac{25 \cdot 25}{100 \cdot 25} = \frac{1}{4}$$

- **Forma decimal**

A forma decimal é uma possibilidade de representação também. Para encontrá-la, é necessária a realização da [divisão](#).

Exemplo:

A forma decimal de 25% é obtida pela divisão de $25 : 100 = 0,25$.

LIVRO PÁGINA 162- RESOLVER EXERCÍCIO 2

PÁGINA 163- RESOLVER EXERCÍCIOS 3, 4 E 5

PÁGINA 064 E165- RESOLVER TODOS OS EXERCÍCIOS

PÁGINA 172- RESOLVER TODOS OS EXERCÍCIOS

OBSERVE A TABELA DE SALÁRIO MÍNIMO DESDE 1994 E FAÇA UM GRÁFICO DE LINHAS COM ELE:

Tabela do Salário Mínimo

	Jan	Fev	Mar	Abr	Mai	Jun	Jul	Ago	Set	Out	Nov	Dez
1994	-	-	64,79	-	-	-	64,79	-	70,00	-	-	-
1995	-	-	-	-	100,00	-	-	-	-	-	-	-
1996	-	-	-	-	112,00	-	-	-	-	-	-	-
1997	-	-	-	-	120,00	-	-	-	-	-	-	-
1998	-	-	-	-	130,00	-	-	-	-	-	-	-
1999	-	-	-	-	136,00	-	-	-	-	-	-	-
2000	-	-	-	-	151,00	-	-	-	-	-	-	-
2001	-	-	-	180,00	-	-	-	-	-	-	-	-
2002	-	-	-	200,00	-	-	-	-	-	-	-	-
2003	-	-	-	240,00	-	-	-	-	-	-	-	-
2004	-	-	-	-	260,00	-	-	-	-	-	-	-
2005	-	-	-	-	300,00	-	-	-	-	-	-	-
2006	-	-	-	350,00	-	-	-	-	-	-	-	-
2007	-	-	-	380,00	-	-	-	-	-	-	-	-
2008	-	-	415,00	-	-	-	-	-	-	-	-	-
2009	-	465,00	-	-	-	-	-	-	-	-	-	-
2010	510,00	-	-	-	-	-	-	-	-	-	-	-
2011	-	-	545,00	-	-	-	-	-	-	-	-	-
2012	622,00	-	-	-	-	-	-	-	-	-	-	-
2013	678,00	-	-	-	-	-	-	-	-	-	-	-
2014	724,00	-	-	-	-	-	-	-	-	-	-	-
2015	788,00	-	-	-	-	-	-	-	-	-	-	-
2016	880,00	-	-	-	-	-	-	-	-	-	-	-
2017	937,00	-	-	-	-	-	-	-	-	-	-	-
2018	954,00	-	-	-	-	-	-	-	-	-	-	-

Ano	Salário Mínimo	Reajuste Salário Mínimo
2021	R\$ 1.100,00	5,26%
2020	R\$ 1.045,00	0,58%
2020	R\$ 1.039,00	4,1%
2019	R\$ 998,00	4,61%

QUARTA-FEIRA-11/08- CIÊNCIAS E ENSINO RELIGIOSO

CIÊNCIAS

LEITURA DAS PÁGINAS 74 A 76- RESPONDER A ATIVIDADE DA PÁGINA 76

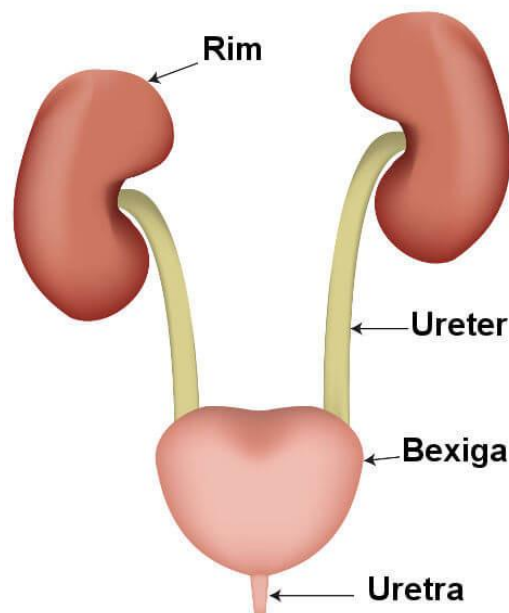
COPIE NO CADERNO O TEXTO ABAIXO:

O **sistema urinário**, ou aparelho urinário, é o sistema responsável por **produzir, armazenar** temporariamente e **eliminar a urina**, um composto que garante a eliminação de substâncias que estão em excesso no organismo e resíduos oriundos do [metabolismo](#).

Órgãos do sistema urinário e suas funções

Os órgãos do sistema urinário são: **dois rins**, **dois ureteres**, **a bexiga urinária** e **a uretra**.

Eles atuam de maneira conjunta, garantindo a filtração do sangue, a produção da urina e sua eliminação.

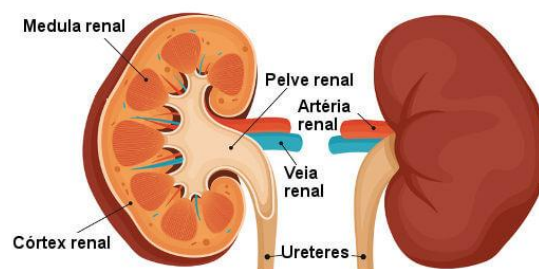


Observe os órgãos que compõem o sistema urinário.

→ Rins

Os [rins](#) são encontrados em número de dois no nosso corpo, sendo eles os órgãos responsáveis pela produção da urina. Estão localizados junto à parede posterior do abdômen, abaixo do diafragma.

Possuem cerca de 10 cm de comprimento, peso aproximado de 120 a 280 g e formato que lembra um feijão, apresentando uma borda convexa e uma borda côncava. Na parte côncava, é possível observar uma região denominada de hilo, local onde entram e saem vasos sanguíneos, entram nervos e saem os ureteres.



Observe algumas partes do rim, o órgão responsável pela formação da urina.

As unidades funcionais dos rins são os chamados nefros, os quais são constituídos pelo corpúsculo renal e pelos túbulos renais.

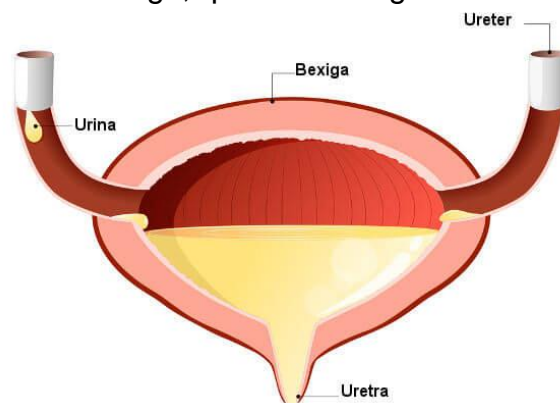
Os nefros são classificados em **corticais e justa medulares**. Os nefros corticais são aqueles que apenas uma porção adentra a medula renal, enquanto os nefros justa medulares estendem-se mais profundamente na medula.

→ **Ureteres**

Os ureteres são ductos que levam a urina do rim para a bexiga. São encontrados em nosso corpo dois ureteres, cada um partindo de um dos rins. Em média, os ureteres apresentam de 25 a 30 cm de comprimento e 4 a 5 mm de diâmetro.

→ **Bexiga urinária**

A bexiga urinária é um órgão muscular oco que serve de reservatório para a urina e gradativamente distende-se conforme esse produto acumula-se. Há músculos próximos ao local de junção entre a uretra e a bexiga, que atuam regulando a micção.



Na bexiga urinária, a urina é armazenada.

→ **Uretra**

A uretra é um órgão que garante a eliminação da urina para o meio externo. No homem, a uretra apresenta um comprimento médio de 20 cm e pode ser dividida em três porções: prostática, membranosa e cavernosa ou peniana. A prostática passa próxima à bexiga e no interior da próstata, a membranosa possui apenas um centímetro de extensão e conecta-se com a cavernosa, que se localiza no interior do corpo cavernoso do pênis. A uretra da mulher apresenta cerca de 4 cm de comprimento.

Como funciona o sistema urinário: a formação da urina

Como sabemos, o sistema urinário é o sistema responsável pela formação da urina. A urina é produzida nos rins, passa pelos ureteres e é armazenada temporariamente na bexiga e posteriormente lançada para o exterior do corpo via uretra.

A formação da urina ocorre na região dos rins chamadas de néfrons. Inicialmente, ocorre o processo de filtração no interior do corpúsculo renal. O sangue que chega aos glomérulos está em alta pressão e o glomérulo atua como uma membrana semipermeável, garantindo que parte do plasma passe para o interior da cápsula

O filtrado segue, então, para os túbulos renais, onde passa pelos processos de **reabsorção e secreção**. Na reabsorção, algumas substâncias são reabsorvidas para o sangue, enquanto no processo de secreção, substâncias são adicionadas ao filtrado. A reabsorção é importante, pois garante que água, íons e glicose, por exemplo, sejam reabsorvidos. **A urina é resultado, portanto, dos processos de filtração glomerular, reabsorção tubular e secreção tubular.**

Após passar pelo túbulo renal, a urina segue para o ducto coletor, que leva o composto até a pelve renal (porção superior do ureter), saindo do rim, portanto, via ureter. Como dito anteriormente, do ureter, a urina segue até a bexiga, onde é armazenada e depois eliminada pela uretra.

→ **Curiosidade do sistema urinário**

- Cada rim possui aproximadamente um milhão de néfrons.
- O rim de um recém-nascido é três vezes maior, em proporção ao peso do corpo, do que o rim de um adulto.
- O rim direito é ligeiramente mais baixo do que o rim esquerdo devido à presença do fígado.
- Os rins recebem cerca de 1,2 litros de sangue por minuto.
- Em média, um indivíduo elimina entre 1000 e 1500 ml de urina por dia.
- A presença de glicose na urina pode ser um sinal de diabetes.
- A proximidade da uretra feminina com o ânus favorece o surgimento de infecção urinária.
- A capacidade média da bexiga é de 700 a 800 ml.
- O câncer de bexiga é o câncer mais comum do trato urinário. Sangue na urina, dor ao urinar, vontade de urinar, mas sem conseguir realizar a micção são alguns dos sinais que merecem atenção.
- A [hemodiálise](#) é um procedimento em que uma máquina é utilizada para limpar e filtrar o sangue, atuando como um rim artificial.
- Em 2017, o Brasil realizou 5948 transplantes de rim.

ATIVIDADE

DESENHE O APARELHO URINÁRIO NO CENTRO DE UMA FOLHA E AO REDOR DELE FAÇA UM MAPA MENTAL SOBRE O SISTEMA URINÁRIO, UTILIZANDO AS INFORMAÇÕES ACIMA.

ENSINO RELIGIOSO

HOJE É O DIA DO ESTUDANTE, PARABÉNS PELO SEU DIA, VOCÊ QUE SONHA COM UM FUTURO MELHOR E QUE ESTUDA PARA MELHORAR A CADA DIA, APRIMORA SUAS HABILIDADES CONSTROI E RECONSTROI O SEU FUTURO, TENHO MUITO ORGULHO DE TER VOCÊ COMO MEU ALUNO,

OS ANOS PASSARÃO MAIS SEI QUE QUANDO VOCÊ REALIZAR SEU SONHO ESTAREI TE APLAUDINDO DE PÉ, ASSIM COMO FAÇO HOJE.

PARABÉNS PELO SEU DIA!

LEIA O TEXTO ABAIXO:

O DIA DO ESTUDANTE



No dia 11 de agosto de 1827, D. Pedro I instituiu no Brasil os dois primeiros cursos de ciências jurídicas e sociais do país: um em São Paulo e o outro em Olinda, este último mais tarde transferido para Recife. Até então, todos os interessados em entender melhor o universo das leis tinham de ir a Coimbra, em Portugal, que abrigava a faculdade mais próxima. Na capital paulista, o curso acabou sendo acolhido pelo Convento São Francisco, um edifício de taipa construído por volta do século XVII. As primeiras turmas formadas continham apenas 40 anos. De lá para cá, nove Presidentes da República e outros inúmeros escritores, poetas e artistas já passaram pela escola do Largo São Francisco, incorporada à USP em 1934. Cem anos após sua criação dos cursos de direito, Celso Gand Ley propôs que a data fosse escolhida para homenagear todos os estudantes. Foi assim que nasceu o Dia do Estudante, em 1927.

Prezados Estudantes!

A cada ano, de energia renovada e cheios de esperança, nos preparamos para, de alguma forma, auxiliarmos na transformação de nosso País em uma grande nação. E hoje, especialmente, apostamos antes de mais nada na sua capacidade de criar e transformar a realidade. Não basta ter sonhos para realizá-los. É preciso sonhar, mas com a condição de crer em nossos sonhos. Feliz Dia do Estudantes!

VOCÊ JÁ PENSOU NO QUE QUER FAZER QUANDO CRESCER?

PARA CONQUISTAR NOSSOS SONHOS QUANDO ADULTOS, DEVEMOS COMEÇAR DESDE JÁ, PARA TERMOS UMA BOA SAÚDE QUANDO IDOSOS, TAMBÉM DEVEMOS COMEÇAR AGORA, QUANDO CRIANÇA NOS CUIDANDO.

PARA CONSEGUIR UM TRABALHO QUANDO ADULTOS DEVEMOS TER UM CURRÍCULO, E SAIBA QUE DEVEMOS SABER FAZE-LO PARA QUE POSSAMOS DEIXAR NAS EMPRESAS PARA QUE ELAS POSSAM NOS AVALIAR E CONTRATAR.

HOJE VAMOS FAZER O NOSSO CURRÍCULO COMO SE FOSSE PEDIR UMA VAGA EM UMA EMPRESA.

ESSE CURRÍCULO É IGUAL AO QUE A MÃE OU O PAI DEVE ENTREGAR NAS EMPRESAS QUANDO PROCURA EMPREGO.

VOCÊ VAI COMPLETÁ-LO COM AS COISAS QUE VOCÊ JÁ CONQUISTOU:

CURRICULUM VITAE			
Nome completo		Foto	
Idade	Estado civil		
Nacionalidade			
Endereço residencial			
Bairro			
Cidade	Estado		CEP
Tel. residencial	Celular		
Tel. recado	Contato		
e-mail			
ÁREA E CARGO PRETENDIDO			
EXPERIÊNCIA PROFISSIONAL			
Empresa			
Endereço	Cidade	Estado	
Tel.	Período		
Cargo	Funções desempenhadas		
Empresa			
Endereço	Cidade	Estado	
Tel.	Período		
Cargo	Funções desempenhadas		
Empresa			
Endereço	Cidade	Estado	
Tel.	Período		
Cargo	Funções desempenhadas		

NO CURRÍCULO VOCÊ PREENCHEU COM O EMPREGO QUE VOCÊ QUERIA ATUAR, FAÇA UM TEXTO REFLEXIVO SOBRE O QUE VOCÊ PRECISA FAZER PARA CONSEGUIR ESTE EMPREGO QUE VOCÊ QUER QUANDO ADULTO.

QINTA-FEIRA- 12/08- HISTÓRIA

COPIE NO CADERNO O TEXTO ABAIXO:

A HISTÓRIA DO SALÁRIO MÍNIMO

O salário mínimo é uma remuneração mínima estipulada por um governo para determinado número de horas trabalhadas. A ideia por trás deste benefício social é a de satisfazer as necessidades básicas dos indivíduos, como alimentação, habitação, vestuário, higiene, transporte, entre outras.

No Brasil, o salário mínimo, antiga reivindicação dos trabalhadores desde a greve geral de 1917, foi criado no governo de Vargas, por meio da lei nº 185 de janeiro de 1936 e do

Decreto-Lei nº 399 de abril de 1938. Já os valores do mesmo foram definidos por meio do Decreto-Lei nº 2162 de 1º de maio de 1940. Um fato interessante nesse sentido é que o valor do salário-mínimo não era o mesmo em todo o país. O Brasil foi dividido em 22 regiões e 50 sub-regiões. Desta forma, para cada sub-região havia um valor estipulado, ou seja, havia 14 diferentes valores de salários-mínimos durante a criação do benefício.

Tal curiosa realidade durou vários anos, inclusive, já que a unificação dos montantes foi ocorrer somente em maio de 1984. Ao longo do século XX, o salário mínimo teve acréscimos e reduções por diversas ocasiões. A partir de 1962, com a aceleração da inflação, o mesmo começou a perder seu poder de compra, apesar dos outros dois reajustes durante o Governo de Goulart. Após o golpe militar, o governo passou a adotar uma política que visava manter o salário médio. Desde 1994, após a criação do Plano Real, houve mais de 24 reajustes ao longo da história do salário mínimo.

ATIVIDADES:

- 1) QUANTOS REAJUSTES TEVE O SALÁRIO MÍNIMO AO LONGO DA HISTÓRIA?
- 2) EM QUE ANO O SALÁRIO MÍNIMO COMEÇOU A PERDER SEU PODER DE COMPRA?
- 3) QUAL FOI A LEI E EM QUE GOVERNO QUE DEU ORIGEM AO SALÁRIO MÍNIMO?
- 4) O QUE É O SALÁRIO MÍNIMO?
- 5) ANTES DAS FÉRIAS FIZEMOS O NOSSO FESTIVAL DAS REGIÕES E VOCÊ GANHOU UMA CERTA QUANTIA FICTICIA PARA GASTAR, VOCÊ PODERIA GASTAR MAIS DO QUE GANHOU? POR QUE?
- 6) UMA PESSOA QUE GANHA UM SALÁRIO MÍNIMO PODE GASTAR MAIS QUE R\$ 3000? POR QUÊ?
- 7) O QUE ACONTECE COM ESSA PESSOA SE GASTAR MAIS DO QUE GANHA?

AULA DE LEITURA, VOCE DEVE TRAZER UM LIVRO PARA LER EM SALA DE AULA.

SEXTA-FEIRA- 13/08- GEOGRAFIA

LIVRO- PÁGINAS 49 A 51

FAZER UM TRABALHO DE FORMA CRIATIVA EXPLICANDO AS DIFERENTES FORMAÇÕES DAS VEGETAÇÕES NATIVAS EXPLICADAS NAS PÁGINAS ACIMA.

AULA DE LEITURA

HOJE A PROFESSORA VAI CONTAR A HISTÓRIA DO CHA DAS MARAVILHAS APÓS VOCÊ VAI ESCREVER EM SEU CADERNO DE LEITUTA O QUE ENTENDEU DA HISTÓRIA

SE VOCÊ ESTÁ NO REMOTO VAI ESCREVER UMA HISTORIA QUE JÁ ESCUTOU.

Abraços,

Maria Salete