



ESCOLA DE EDUCAÇÃO BÁSICA MUNICIPAL MADRE LEONTINA

PROFESSORA: DAYANE VIEIRA MARTINS DOS SANTOS

ALUNO (A): _____ 2º ANO

PERÍODO DE EXECUÇÃO DAS ATIVIDADES: 16/08 A 20/08/2021

ATIVIDADES DA SEMANA

COMPETÊNCIA: Repertório Cultural — Valorizar e fruir as diversas manifestações artísticas e culturais, das locais às mundiais, e também participar de práticas diversificadas da produção artístico-cultural.

HABILIDADES: EF01LP11/EF12LP03/EF02LP08/EF02HI01/EF02HI02/EF02MA04/EF02MA05.

SEGUNDA-FEIRA: 16/08

- Os alunos deverão copiar as informações no caderno, na letra SCRIPT.

Você sabe o que é Folclore?

Podemos definir o folclore como um conjunto de mitos e lendas que as pessoas passam de geração para geração. Muitos nascem da pura imaginação das pessoas, principalmente dos moradores das regiões do interior do Brasil. Muitas destas histórias foram criadas para passar mensagens importantes ou apenas para assustar as pessoas. O folclore pode ser dividido em lendas e mitos. Muitos deles deram origem à festas populares, que ocorrem pelos quatro cantos do país.



www.suapesquisa.com/folclorebrasileiro/folclore.htm

Assistir aos vídeos sobre as lendas:

- LOBISOMEM, IARA, MULA-SEM-CABEÇA.
- Organizar as frases e reescrever na letra script, treinando a letra.


**ATACA EM E LOBO,
MISTURA DE HOMEM
LUA CHEIA.**



**OS HOMENS COM
CANTO. SEU
ENCANTA IARA**



**FOGO PELO PESCOÇO.
MULA É UMA CABEÇA
E SOLTA QUE NÃO TEM**





ADIÇÃO

<input type="checkbox"/>	<input type="checkbox"/>	<input type="checkbox"/>	<input type="checkbox"/>	<input type="checkbox"/>
25	36	57	29	78
+15	+36	+18	+44	+ 8
—	—	—	—	—
<input type="checkbox"/>	<input type="checkbox"/>	<input type="checkbox"/>	<input type="checkbox"/>	<input type="checkbox"/>
65	42	16	27	52
+19	+28	+17	+37	+39
—	—	—	—	—
<input type="checkbox"/>	<input type="checkbox"/>	<input type="checkbox"/>	<input type="checkbox"/>	<input type="checkbox"/>

SUBTRAÇÃO

33	45	28	54	79
-22	-15	-14	-23	-55
—	—	—	—	—
<input type="checkbox"/>	<input type="checkbox"/>	<input type="checkbox"/>	<input type="checkbox"/>	<input type="checkbox"/>
85	67	90	25	19
-45	-66	-10	-14	- 5
—	—	—	—	—
<input type="checkbox"/>	<input type="checkbox"/>	<input type="checkbox"/>	<input type="checkbox"/>	<input type="checkbox"/>

TERÇA-FEIRA: 17/08

424	136	631	742	152
+122	+142	+211	+126	+134
—	—	—	—	—
<input type="checkbox"/>	<input type="checkbox"/>	<input type="checkbox"/>	<input type="checkbox"/>	<input type="checkbox"/>
644	124	352	462	512
+223	+121	+137	+213	+110
—	—	—	—	—
<input type="checkbox"/>	<input type="checkbox"/>	<input type="checkbox"/>	<input type="checkbox"/>	<input type="checkbox"/>

$$\begin{array}{r} 85 \\ - 22 \\ \hline \end{array}$$

$$\begin{array}{r} 74 \\ - 20 \\ \hline \end{array}$$

$$\begin{array}{r} 93 \\ - 62 \\ \hline \end{array}$$

$$\begin{array}{r} 78 \\ - 14 \\ \hline \end{array}$$

$$\begin{array}{r} 86 \\ - 40 \\ \hline \end{array}$$

$$\begin{array}{r} 70 \\ - 20 \\ \hline \end{array}$$

$$\begin{array}{r} 88 \\ - 52 \\ \hline \end{array}$$

$$\begin{array}{r} 65 \\ - 41 \\ \hline \end{array}$$

$$\begin{array}{r} 76 \\ - 33 \\ \hline \end{array}$$

$$\begin{array}{r} 59 \\ - 21 \\ \hline \end{array}$$

$$\begin{array}{r} 78 \\ - 50 \\ \hline \end{array}$$

$$\begin{array}{r} 37 \\ - 26 \\ \hline \end{array}$$

$$\begin{array}{r} 57 \\ - 11 \\ \hline \end{array}$$

$$\begin{array}{r} 98 \\ - 86 \\ \hline \end{array}$$

$$\begin{array}{r} 83 \\ - 32 \\ \hline \end{array}$$

$$\begin{array}{r} 49 \\ - 18 \\ \hline \end{array}$$

$$\begin{array}{r} 70 \\ - 50 \\ \hline \end{array}$$

$$\begin{array}{r} 79 \\ - 47 \\ \hline \end{array}$$

$$\begin{array}{r} 87 \\ - 73 \\ \hline \end{array}$$

$$\begin{array}{r} 59 \\ - 15 \\ \hline \end{array}$$

a) Renata ganhou de sua mãe 280 bexigas para o seu aniversário. Seu pai chegou em casa com mais 157. Quanta bexiga Renata ganhou para seu aniversário?

Operação

C	D	U

Resposta: _____

QUARTA-FEIRA: 18/08

- Organizar as frases e reescrever na letra script, treinando a letra.

**FAZER O SACI
TRAVESSURAS.
ADORA**



**MATAS.
PROTETOR DAS
CURUPIRA É O**




**A MATA, BOITATÁ
DE OLHO. ESTÁ
NÃO DESRESPEITA**



Atividade avaliativa

1- Arme e resolva:

a) $62 + 7 =$	a) D U	b) D U	c) D U	d) D U	e) D U
b) $55 + 3 =$					
c) $81 + 11 =$					
d) $64 + 21 =$					
e) $35 + 43 =$	f) D U	g) D U	h) D U	i) D U	j) D U
f) $22 + 67 =$					
g) $51 + 7 =$					
h) $83 + 6 =$					
i) $62 - 21 =$	k) D U	l) D U	m) D U	n) D U	o) D U
j) $75 - 25 =$					
k) $97 - 73 =$					
l) $81 - 50 =$					
m) $96 - 14 =$	p) D U	q) D U	r) D U	s) D U	t) D U
n) $88 - 64 =$					
o) $73 - 41 =$					
p) $87 - 77 =$					
q) $39 - 26 =$					
r) $58 - 34 =$					
s) $96 - 34 =$					
t) $99 - 55 =$					



Assistir aos vídeos sobre as lendas:

- CURUPIRA, BOTO COR DE ROSA, SACI


[O Curupira \(HD\) - Série Juro que vi - YouTube](#)

[O Boto \(HD\) - Série "Juro que vi" - YouTube](#)

[Saci - Série " Juro que vi" - YouTube](#)

- Organizar as frases e reescrever na letra script, treinando a letra.


UM BOTO QUE VIRA E
CHARMOSO JOVEM,
BONITO MULHERES.
QUE ENCANTA AS



DE JACARÉ.
EM FEIA FORMA
UMA BRUXA CUCA É




PASTOREIO DO ERA UM
NEGRINHO ESCRAVO
PELO DONO.
ESPANCADO



QUINTA-FEIRA: 19/08

COMPLETE OS TEXTOS COM APOIO DAS PALAVRAS.



ESTE É O _____.

ELE É UM NEGRINHO MUITO _____, QUE ADORA
FAZER _____ COM AS PESSOAS.

SACI USA SEMPRE UM _____ VERMELHO NA CABEÇA
E VIVE COM UM _____ NA BOCA.

ALÉM DISSO, ELE TEM UMA _____ SÓ.



O _____ É UM MENINO QUE VIVE NAS _____.

ELE É AMIGO DOS _____ E PROTEGE TODA A FLORESTA
DE _____.

O CURUPIRA TEM CABELOS _____ E OS _____
VIRADOS PARA TRÁS.



O HOMEM VIRA _____ TODA VEZ QUE NASCE
UM MENINO DEPOIS DE SETE FILHAS.

ELE APARECE EM SEXTA-FEIRA DE _____ CHEIA.

O LOBISOMEM É _____ E TEM _____
NO LUGAR DE UNHAS.

PÉS

PERNA

CURUPIRA

LUA

MATAS

TRAVESSURA

LOBISOMEM

CACHIMBO

ANIMAIS

GORRO

PELUDO

CAÇADORES

SACI

LEVADO

GARRAS


VERMELHOS


ATIVIDADE AVALIATIVA

PRODUÇÃO TEXTUAL

- OBSERVE AS IMAGENS, E ESCREVA O QUE ACONTECE EM CADA CENA.







RESOLVA AS ADIÇÕES

$\begin{array}{r} 776 \\ + 222 \\ \hline \end{array}$	$\begin{array}{r} 661 \\ + 234 \\ \hline \end{array}$	$\begin{array}{r} 688 \\ + 211 \\ \hline \end{array}$	$\begin{array}{r} 217 \\ + 332 \\ \hline \end{array}$
---	---	---	---

$\begin{array}{r} 856 \\ + 121 \\ \hline \end{array}$	$\begin{array}{r} 288 \\ + 511 \\ \hline \end{array}$	$\begin{array}{r} 251 \\ + 425 \\ \hline \end{array}$	$\begin{array}{r} 688 \\ + 311 \\ \hline \end{array}$
---	---	---	---

$\begin{array}{r} 164 \\ + 411 \\ \hline \end{array}$	$\begin{array}{r} 623 \\ + 174 \\ \hline \end{array}$	$\begin{array}{r} 333 \\ + 413 \\ \hline \end{array}$	$\begin{array}{r} 444 \\ + 551 \\ \hline \end{array}$
---	---	---	---

$\begin{array}{r} 155 \\ + 124 \\ \hline \end{array}$	$\begin{array}{r} 462 \\ + 421 \\ \hline \end{array}$	$\begin{array}{r} 674 \\ + 222 \\ \hline \end{array}$	$\begin{array}{r} 575 \\ + 223 \\ \hline \end{array}$
---	---	---	---

$\begin{array}{r} 835 \\ + 132 \\ \hline \end{array}$	$\begin{array}{r} 242 \\ + 537 \\ \hline \end{array}$	$\begin{array}{r} 866 \\ + 112 \\ \hline \end{array}$	$\begin{array}{r} 426 \\ + 121 \\ \hline \end{array}$
---	---	---	---